



BARANG MILIK NEGARA

Modul Pembelajaran SMP Terbuka

ILMU PENGETAHUAN

SOSIAL

Kelas
IX



Modul 3

MENGENAL BENUA EROPA

Kementerian Pendidikan, Kebudayaan, Riset, dan Teknologi
Direktorat Jenderal Pendidikan Anak Usia Dini,
Pendidikan Dasar, dan Pendidikan Menengah
Direktorat Sekolah Menengah Pertama



Modul Pembelajaran SMP Terbuka
ILMU PENGETAHUAN SOSIAL
Kelas IX

Modul 3
MENGENAL BENUA EROPA

Kementerian Pendidikan, Kebudayaan, Riset, dan Teknologi
Direktorat Jenderal Pendidikan Anak Usia Dini,
Pendidikan Dasar, dan Pendidikan Menengah
Direktorat Sekolah Menengah Pertama
2021

© Hak cipta pada Kementerian Pendidikan, Kebudayaan, Riset, dan Teknologi
Direktorat Jenderal Pendidikan Anak Usia Dini, Pendidikan Dasar, dan Pendidikan Menengah
Direktorat Sekolah Menengah Pertama

Modul Pembelajaran SMP Terbuka

ILMU PENGETAHUAN SOSIAL

Modul 3: Mengetahui Benua Eropa Kelas IX

Pengarah:

Mulyatsyah

Penanggung Jawab:

Eko Susanto

Kontributor:

Imam Pranata, Harnowo Susanto,
Ninik Purwaning Setyorini,
Maulani Mega Hapsari

Penulis:

Suciati

Reviewer:

Neni Suharjani

Editor:

Didi Teguh Chandra, Amsor,
Agus Fany Chandra Wijaya, Hutnal Basori,
Sukma Indira, Kader Revolusi,
Andi Andangatmadja, Tri Mulya Purwiyanti,
Tim Layanan Khusus

Layout Design:

Ghina Fitriana,
Belaian Pelangi Baradiva,
Lulu Mustikaning Apsari

Diterbitkan oleh:
Kementerian Pendidikan, Kebudayaan, Riset, dan Teknologi
Direktorat Jenderal Pendidikan Anak Usia Dini,
Pendidikan Dasar, dan Pendidikan Menengah
Direktorat Sekolah Menengah Pertama



www.ditsmp.kemdikbud.go.id



[ditsmp.kemdikbud](https://www.instagram.com/ditsmp.kemdikbud)



[Direktorat SMP Kemdikbud](https://www.facebook.com/DirektoratSMPKemdikbud)



[Direktorat SMP](https://www.youtube.com/DirektoratSMP)

KATA PENGANTAR

Puji syukur kita panjatkan ke hadirat Tuhan Yang Maha Esa, atas berkat rahmat dan hidayah-Nya, Direktorat Sekolah Menengah Pertama, Direktorat Jenderal Pendidikan Anak Usia Dini, Pendidikan Dasar dan Pendidikan Menengah telah berhasil menyusun Modul Pembelajaran SMP Terbuka kelas IX dengan baik. Tujuan disusunnya Modul Pembelajaran ini adalah sebagai salah satu bentuk layanan penyediaan bahan belajar peserta didik SMP Terbuka agar proses pembelajarannya lebih terarah, terencana, variatif, dan bermakna. Dengan demikian, tujuan memberikan layanan SMP Terbuka yang bermutu bagi peserta didik SMP Terbuka dapat terwujud.

Modul Pembelajaran SMP Terbuka kelas IX yang telah disusun ini disajikan dalam beberapa kegiatan belajar untuk setiap modulnya dan beberapa modul untuk setiap mata pelajarannya sesuai dengan kurikulum yang berlaku. Dengan adanya modul pembelajaran SMP Terbuka kelas IX ini, kami berharap, peserta didik dapat memperoleh kemudahan dan kebermaknaan dalam menjalankan kegiatan pembelajaran mandiri dan terstruktur. Selain itu, Guru Pamong dan Guru Bina pun dapat merancang, mengarahkan, dan mengevaluasi proses pembelajaran dengan lebih baik sebagai bagian dari proses peningkatan mutu layanan di SMP Terbuka. Dengan layanan SMP Terbuka yang bermutu, peserta didik akan merasakan manfaatnya dan termotivasi untuk mencapai cita-citanya menuju kehidupan yang lebih baik.

Dengan diterbitkannya Modul Pembelajaran SMP Terbuka kelas IX ini diharapkan kualitas layanan pembelajaran di SMP Terbuka menjadi lebih baik. Modul Pembelajaran SMP Terbuka kelas IX ini masih jauh dari sempurna, untuk itu kami berharap dapat memperoleh kritik, saran, rekomendasi, evaluasi, dan kontribusi nyata dari berbagai pihak untuk kesempurnaan modul ini. Kami mengucapkan banyak terima kasih kepada semua pihak yang telah berkontribusi aktif dalam proses penyusunan Modul Pembelajaran SMP Terbuka kelas IX ini. Apabila terdapat kekurangan atau kekeliruan, maka dengan segala kerendahan hati akan kami perbaiki sesuai dengan ketentuan yang berlaku di masa yang akan datang.

Jakarta, Desember 2021

Direktur

Sekolah Menengah Pertama,



Drs. Mulyatsyah, M.M.

NIP. 196407141993041001



DAFTAR ISI

KATA PENGANTAR	iii
DAFTAR ISI	iv
DAFTAR GAMBAR	v
DAFTAR TABEL	vi
I. Pendahuluan	1
A. Deskripsi Singkat	1
B. Kompetensi Inti dan Kompetensi Dasar	1
C. Petunjuk Belajar	2
D. Peran Orang Tua dan Guru	2
II. Kegiatan Belajar 1: Letak, Luas dan Negara-negara di Benua Eropa	3
A. Indikator Pembelajaran.....	3
B. Aktivitas Pembelajaran	3
C. Tugas	6
D. Rangkuman	7
E. Tes Formatif	8
III. Kegiatan Belajar 2: Inggris Salah Satu Contoh Negara Di Benua Eropa	11
A. Indikator Pembelajaran.....	11
B. Aktivitas Pembelajaran	11
C. Tugas	16
D. Rangkuman	17
E. Tes Formatif	18
IV. Kegiatan Belajar 3: Dinamika Penduduk Benua Eropa	21
A. Indikator Pembelajaran.....	21
B. Aktivitas Pembelajaran	21
C. Tugas	24
D. Rangkuman	25
E. Tes Formatif	26
TES AKHIR MODUL	29
LAMPIRAN	33
A. Glosarium.....	33
B. Kunci Jawaban Tugas	34
C. Kunci Jawaban Tes Formatif.....	36
D. Kunci Jawaban Tes Akhir Modul	39
DAFTAR PUSTAKA	41



DAFTAR GAMBAR

Gambar 3.1 Peta Benua Eropa	4
Gambar 3.2 Peta Pembagian Wilayah Eropa	5
Gambar 3.3 Peta Inggris.....	12
Gambar 3.4 Negara-negara Britania Raya.....	13
Gambar 3.5 Peta Kepadatan Penduduk Inggris.....	15
Gambar 3.6 Peta Persebaran Penduduk Eropa.....	22



DAFTAR TABEL

Tabel 3.1 Kompetensi Inti dan Kompetensi Dasar	1
Tabel 3.2 Letak Benua Eropa.....	4
Tabel 3.3 Batas Wilayah Benua Eropa.....	4
Tabel 3.4 Pembagian Wilayah Eropa.....	5
Tabel 3.5 Soal Tes Formatif Kegiatan Belajar 1	8
Tabel 3.6 Batas Inggris	12
Tabel 3.7 Pembagian Wilayah Britania Raya	13
Tabel 3.8 Flora dan Fauna Inggris	14
Tabel 3.9 Soal Tes Formatif Kegiatan Belajar 2	18
Tabel 3.10 Sebaran Penduduk Benua Eropa	22
Tabel 3.11 Komposisi Penduduk berdasar Usia	23
Tabel 3.12 Tabel Suku Bangsa Penduduk Eropa.....	23
Tabel 3.13 Tes Formatif Kegiatan Belajar 3.....	26





I PENDAHULUAN

MENGENAL BENUA EROPA

A. DESKRIPSI SINGKAT

Selamat Pagi Ananda, Apa kabar Ananda hari ini? Semoga Ananda semua dalam keadaan sehat walafiat, aamiin. Sebelum belajar kita berdoa menurut Agama dan kepercayaan masing-masing. Setelah mempelajari tentang Benua Asia dan Amerika dari modul sebelumnya, modul 3 ini Ananda belajar tentang Benua Eropa dengan potensinya. Bagaimana cara Ananda belajar tentang Benua Eropa dengan segala potensinya? Silahkan pelajari modul 3 ini dengan cara mengamati atau membaca buku sumber lain, kemudian isi aktivitas kegiatan belajar dengan cara mengisi tabel yang telah disediakan, lanjutkan dengan aktivitas komunikasi/menyerahkan hasil isian aktivitas belajar tersebut dengan Guru Pamong atau Guru Bina. Apabila Ananda mengalami kesulitan mempelajari modul ini dapat bertanya pada Guru Bina atau Guru Pamong di tempat kegiatan belajar. Ayo, kita pelajari modul ini!

B. KOMPETENSI INTI DAN KOMPETENSI DASAR

Kompetensi Dasar (KD) merupakan kemampuan dan materi pembelajaran minimal yang harus dicapai Ananda untuk suatu mata pelajaran pada setiap satuan pendidikan yang mengacu pada kompetensi inti. Berikut Kompetensi Inti dan Kompetensi Dasar pada pembelajaran Modul 3 ini.

Tabel 3.1 Kompetensi Inti dan Kompetensi Dasar

Kompetensi Inti Pengetahuan	Kompetensi Inti Keterampilan
3. Memahami pengetahuan (faktual, konseptual, dan prosedural) berdasarkan rasa ingin tahunya tentang ilmu pengetahuan, teknologi, seni, budaya terkait fenomena dan kejadian tampak mata.	4. Mencoba, mengolah, dan menyaji dalam ranah konkret (menggunakan, mengurai, merangkai, memodifikasi, dan membuat) dan ranah abstrak (menulis, membaca, menghitung, menggambar, dan mengarang) sesuai dengan yang dipelajari di sekolah dan sumber lain yang sama dalam sudut pandang/teori.
Kompetensi Dasar Pengetahuan	Kompetensi Dasar Keterampilan
3.1. Menelaah perubahan keruangan dan interaksi antarruang negara-negara Asia dan benua lainnya yang diakibatkan faktor alam, manusia dan pengaruhnya terhadap keberlangsungan kehidupan manusia dalam ekonomi, sosial, pendidikan dan politik;	4.1. Menyajikan hasil telaah tentang perubahan keruangan dan interaksi antarruang negara-negara Asia dan benua lainnya yang diakibatkan faktor alam, manusia dan pengaruhnya terhadap keberlangsungan kehidupan manusia dalam ekonomi, sosial, pendidikan dan politik.

C. PETUNJUK BELAJAR

Sebelum Ananda menggunakan Modul 3 ini terlebih dahulu Ananda baca petunjuk mempelajari modul berikut ini:

1. Pelajarilah modul ini dengan baik. Mulailah mempelajari materi pelajaran yang ada dalam Modul ini di setiap kegiatan pembelajaran hingga Ananda dapat menguasainya dengan baik;
2. Lengkapilah setiap bagian aktivitas dan tugas yang terdapat dalam modul ini dengan semangat dan gembira. Jika mengalami kesulitan dalam melakukannya, catatlah kesulitan tersebut pada buku catatan Ananda untuk dapat mendiskusikannya bersama teman, menceritakannya kepada orang tua, atau dapat menanyakannya langsung kepada Bapak/Ibu Guru pada saat jadwal kegiatan pembelajaran berlangsung;
3. Lengkapi dan pahamiilah setiap bagian dalam rangkuman sebagai bagian dari tahapan penguasaan materi modul ini;
4. Kerjakan bagian Tes Formatif pada setiap bagian Kegiatan Belajar sebagai indikator penguasaan materi dan refleksi proses belajar Ananda pada setiap kegiatan belajar. Ikuti petunjuk pengerjaan dan evaluasi hasil pengerjaannya dengan seksama;
5. Jika Ananda telah menguasai seluruh bagian kompetensi pada setiap kegiatan belajar, lanjutkan dengan mengerjakan Tes Akhir Modul secara sendiri untuk kemudian dilaporkan kepada Bapak/Ibu Guru; dan
6. Gunakan Daftar Pustaka dan Glosarium yang disiapkan dalam modul ini untuk membantu mempermudah proses belajar Ananda.



D. PERAN ORANG TUA DAN GURU

Teruntuk Bapak/Ibu Orang Tua peserta didik, berkenan Bapak/Ibu dapat meluangkan waktunya untuk mendengarkan dan menampung serta membantu memecahkan permasalahan belajar yang dialami oleh Ananda peserta didik. Jika permasalahan belajar

tersebut belum dapat diselesaikan, arahkanlah Ananda peserta didik untuk mencatatkannya dalam buku catatan mereka untuk didiskusikan bersama teman maupun Bapak/Ibu Guru mereka saat jadwal kegiatan pembelajaran berlangsung.

Teruntuk Bapak/Ibu Guru, modul ini disusun dengan orientasi aktivitas peserta didik dan setiap modul dirancang untuk dapat mencakup satu atau lebih pasangan kompetensi-kompetensi dasar yang terdapat pada kompetensi inti 3 (pengetahuan) dan kompetensi inti 4 (keterampilan). Setiap peserta didik diarahkan untuk dapat mempelajari modul ini secara mandiri, namun demikian mereka juga diharapkan dapat menuliskan setiap permasalahan pembelajaran yang ditemuinya saat mempelajari modul ini dalam buku catatan mereka. Berkenaan dengan permasalahan-permasalahan tersebut, diharapkan Bapak/Ibu Guru dapat membahasnya dalam jadwal kegiatan pembelajaran yang telah dirancang sehingga Ananda peserta didik dapat memahami kompetensi-kompetensi yang disiapkan dengan tuntas.

II

KEGIATAN BELAJAR 1



Letak, Luas, dan Negara-Negara di Benua Eropa

A. Indikator Pembelajaran

Setelah melaksanakan kegiatan pembelajaran 1, Ananda diharapkan dapat:

1. menunjukkan letak Benua Eropa secara astronomis dan geografis;
2. menganalisa kaitan antara letak astronomis dengan iklim Benua Eropa;
3. menjelaskan empat wilayah/region Benua Eropa; dan
4. menunjukkan negara-negara yang berada di Benua Eropa berdasarkan pembagian region/wilayah.

B. Aktivitas Pembelajaran



Benua Eropa berada di Bagian Barat Benua Asia dan menjadi satu daratan dengan Asia. Benua Eropa dan Benua Asia hanya dipisahkan oleh pegunungan Ural. Namun, umumnya Eropa dan Asia masing-masing dianggap sebagai benua. Alasannya, kedua benua tersebut memiliki budaya yang berbeda.

Benua Eropa dijuluki sebagai benua biru. Ada dua alasan kenapa disebut benua biru. Pertama, mayoritas penduduk Eropa memiliki bola mata berwarna biru. Kedua, Sejak zaman dahulu, banyak kerajaan terkenal berada di benua Eropa sehingga dikenal adanya istilah darah biru (bangsawan).

Untuk lebih mengenal Benua Eropa, silahkan Ananda amati peta berikut ini!



Gambar 3.1 Peta Benua Eropa

Sumber: <https://www.geologinesia.com/>

Setelah mengamati gambar 3.1 dan membaca buku sumber lainnya, silahkan Ananda Isi tabel berikut ini!



Tabel 3.2 Letak Benua Eropa

No.	Letak Benua Eropa	Uraian
1	Secara astronomis
2	Secara geografis

Silahkan Lengkapi letak geografis dari Benua Asia dengan mengisi tabel berikut!



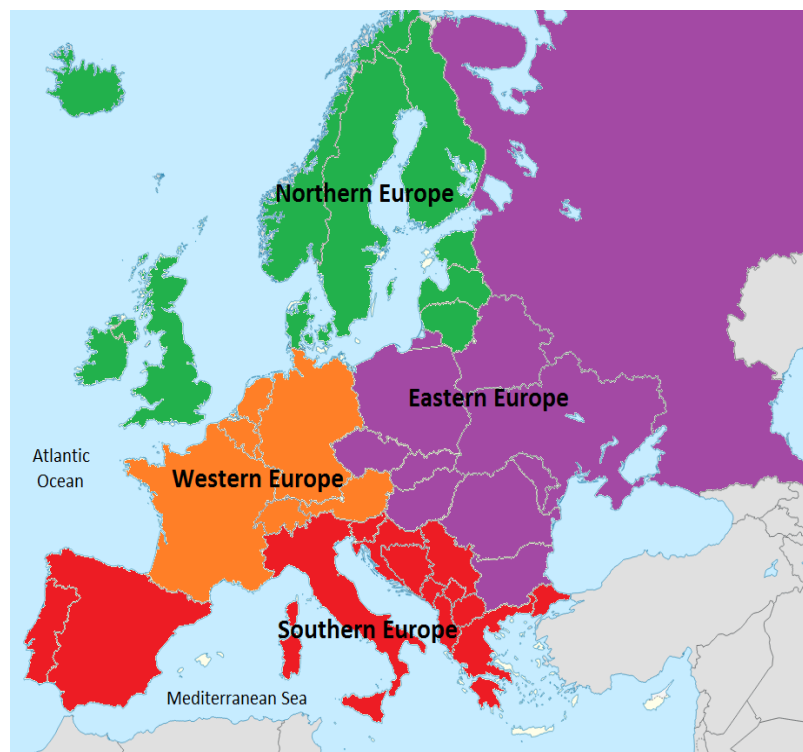
Tabel 3.3 Batas Wilayah Benua Eropa

Letak geografis	Uraian
Utara
Timur
Barat
Selatan

Berdasarkan hasil isian Ananda pada tabel 3.2 dan 3.3 tersebut dapat disimpulkan bahwa letak Benua Eropa secara astronomi yaitu pada 9°BB–60°BT dan 35°LU–80°LU. Benua Eropa merupakan sebuah semenanjung dari benua yang disebut Eurasia. Jika dilihat letaknya, Benua Eropa berada di luar wilayah tropis. Artinya, iklim di wilayah Benua Eropa adalah subtropis dan sedang.

Luas Benua Eropa mencapai 10.355.000 km. Letak geografis Benua Eropa berbatasan dengan Samudra Arktik di utara, Laut Tengah di selatan, Samudra Atlantik di barat, serta Asia di timur. Batas Benua Eropa dengan Benua Asia adalah Pegunungan Ural, Selat Dardanella, dan Laut Kaspia. Karena posisinya, Benua Eropa mengalami empat musim, yaitu musim semi, panas, gugur dan dingin.

Untuk mengenal lebih lanjut tentang Benua Eropa silahkan Ananda perhatikan peta 3.2 berikut ini!



Gambar 3.2 Peta Pembagian Wilayah Eropa

Sumber: <https://masgilangblog.blogspot.com/>

Dengan mengamati peta 3.2 tentang pembagian wilayah Eropa, silahkan Ananda mengisi tabel berikut ini!



Tabel 3.4 Pembagian Wilayah Eropa

No	Wilayah	Negara-negara
1	Eropa Barat
2	Eropa Selatan
3	Eropa Utara
4	Eropa Tengah

Eropa terbagi atas empat kawasan atau region yakni kawasan Eropa Barat, Eropa Timur, Eropa Selatan, dan Eropa Utara. Apa yang mendasari pembagian wilayah tersebut? Pembagian wilayah atau region tersebut lebih pada perbedaan kondisi geografis yang mencakup aspek fisik dan budaya. Negara-negara yang termasuk pada masing-masing kawasan silahkan Ananda pelajari sendiri dengan membaca sumber lainnya.

C. Tugas



Agar Ananda lebih memahami materi kegiatan belajar 1, silahkan Ananda kerjakan latihan berikut ini!

1. Sebutkan letak benua Eropa secara astronomis!
2. Jelaskan letak benua Eropa secara geografis!
3. Berapakah luas benua Eropa?
4. Bagaimana kaitan antara letak astronomis dengan iklim di benua Eropa?
5. Jelaskan empat pembagian wilayah/region dari benua Eropa !
6. Berikan contoh minimal 5 negara dari masing-masing region/wilayah pembagian benua Eropa!




Marilah kita menyusun rangkuman untuk kegiatan pembelajaran ini! Ananda bisa berpartisipasi menyusun rangkuman dengan melengkapi kalimat-kalimat berikut ini!

1. Berdasarkan letak astronomis benua Eropa dilihat dari garis lintang terletak antara ... dan ..., sedangkan dilihat dari garis bujur terletak antara ... dan
2. Berdasarkan letak geografi batas benua Eropa, yaitu :
Sebelah utara berbatasan dengan
Sebelah timur berbatasan dengan
Sebelah barat berbatasan dengan
Sebelah selatan berbatasan dengan
3. Luas benua Eropa adalah
4. Kaitan antara letak astronomis dengan iklim maka Benua Eropa terdiri atas beberapa Iklim, yaitu iklim ..., dan iklim
5. Empat Musim Benua Eropa meliputi musim ..., ..., ..., dan musim
6. Negara-negara yang berada di benua Eropa berdasarkan pembagian region/ wilayah:
Eropa Tengah:
Eropa Utara:
Eropa Selatan:
Eropa Timur:

Bagus! Ananda telah berhasil melengkapi rangkuman!
Sekarang coba bacalah kembali rangkuman yang telah kita susun!

E. TES FORMATIF



Untuk mengetahui apakah Ananda telah menguasai materi pelajaran pada Modul 3 ini, kerjakan tugas yang disediakan. Tes formatif kegiatan belajar 1 ini harus dikerjakan sendiri tanpa melihat kunci jawaban. Jawablah secara jelas tes formatif berikut ini!

Tabel 3.5 Soal Tes Formatif Kegiatan Belajar 1

No.	Soal	Jawaban
1	Jelaskan letak Benua Eropa secara Geografis!	
2	Jelaskan letak Benua Eropa Secara Astronomis!	
3	Berapa luas Benua Eropa?	
4	Bagaimana kaitan antara letak secara astronomis dengan iklim Benua Eropa?	
5	Sebutkan empat pembagian wilayah Benua Eropa!	
6	Berikan contoh masing-masing minimal dua negara pembagian wilayah Benua Eropa!	

Petunjuk Evaluasi Hasil Pengerjaan Tes

1. Setelah Ananda selesai mengerjakan Tes Formatif Kegiatan Belajar 1 ini, silahkan cocokkan jawaban Ananda dengan kunci jawaban yang telah disediakan pada bagian lampiran Modul 3. Kemudian hitung tingkat penguasaan yang dapat Ananda capai dengan menggunakan rumus berikut ini:

$$\text{Nilai} : \frac{\text{Jumlah Jawaban Benar}}{\text{Jumlah Soal Seluruhnya}} \times 100$$

2. Jika Nilai Capaian yang Ananda peroleh kurang dari 75 (disesuaikan dengan KKM yang ditetapkan), Ananda harus mempelajari kembali materi yang belum dikuasai. Jika masih mengalami kesulitan, catatlah pada buku catatan Ananda bagian mana saja yang masih belum Ananda pahami untuk kemudian Ananda dapat mendiskusikannya bersama teman, menceritakannya kepada orang tua, atau dapat menanyakannya langsung kepada Bapak/Ibu Guru pada saat jadwal kegiatan pembelajaran berlangsung.
3. Jika tingkat penguasaan yang Ananda peroleh lebih dari atau sama dengan 75, Ananda dapat melanjutkan Kegiatan Belajar selanjutnya.



III

KEGIATAN BELAJAR 2

Inggris Salah Satu Contoh Negara di Benua Eropa

A. Indikator Pembelajaran

Setelah melaksanakan kegiatan pembelajaran 2, Ananda diharapkan dapat:

1. menunjukkan letak astronomis dan geografis negara Inggris;
2. menjelaskan kaitan antara letak astronomis dan geografis dengan iklim yang dialami oleh Inggris;
3. mendeskripsikan bentuk muka bumi Inggris;
4. menjelaskan flora dan fauna Inggris;
5. menjelaskan geologi Inggris; dan
6. mendeskripsikan kondisi penduduk Inggris.

B. Aktivitas Pembelajaran



Setelah mempelajari Kegiatan belajar 1 tentang Benua Eropa, Ananda dapat melanjutkan kegiatan belajar 2 yang membahas tentang Inggris sebagai salah satu Negara di Benua Eropa. Sudah siapkah Ananda melanjutkan kegiatan belajar 2 modul ini? Siapakah diantara Ananda yang belum pernah mendengar Negara Inggris? Inggris merupakan salah satu contoh negara yang berada di Benua Eropa bagian barat. Pada kegiatan belajar 2 modul ini, Ananda akan belajar Inggris dengan segala potensinya. Ananda disarankan membaca buku IPS kelas IX yang dikeluarkan oleh Kemendibud tentang Materi Negara bab 1 dengan sub. bab kondisi alam negara-negara di Dunia, dan perhatikan gambar 3.3. berikut ini!



Gambar 3.3 Peta Inggris

Sumber: <https://www.sejarah-negara.com/>

Setelah mengamati peta 3.3 tersebut, Ananda memulai pelajaran dengan belajar letak dan batas, iklim, bentuk muka bumi, flora dan fauna, geologi, dan kondisi penduduk Negara Inggris.

1. Letak dan Batas Inggris

Untuk mengenal lebih jelas tentang Inggris, silahkan Ananda membaca buku Paket IPS Kelas IX yang dikeluarkan oleh Kemendikbud dan memperhatikan gambar 3.3, kemudian isi tabel berikut ini!



Tabel 3.6 Batas Inggris

Batas wilayah	Uraian
Barat
Timur
Utara
Selatan

Berdasarkan jawaban Anda pada tabel 3.6 di atas dapat disimpulkan bahwa secara geografis Negara Inggris yang berada pada bagian barat daratan Eropa adalah sebagai berikut: di sebelah utara berbatasan dengan Samudra Atlantik; di sebelah barat berbatasan dengan Irlandia dan Samudra Atlantik; di sebelah timur berbatasan dengan Laut Utara; dan di sebelah selatan berbatasan dengan Selat English Channel. Secara astronomis Inggris terletak diantara 50°LU – 60°LU dan 8°BB – 2°BT . Luas wilayah Inggris mencapai 244.110 km^2 meliputi wilayah England, Skotlandia, Wales, Irlandia Utara, dan sejumlah pulau kecil di sekitarnya. Jarak dari utara sampai selatan wilayah Inggris mencapai 965 km dan jarak dari timur ke barat mencapai 515 km.

Bagaimana dengan pembagian wilayah dari Britania Raya? untuk mengetahui lebih lanjut tentang Britania Raya silahkan Anda perhatikan peta berikut ini!



Gambar 3.4 Negara-negara Britania Raya

Sumber: <http://p2k.um-surabaya.ac.id/>

Setelah mengamati gambar 3.4 Anda isi tabel berikut ini!

Tabel 3.7 Pembagian Wilayah Britania Raya



No.	Negara Britania Raya	Ibu kota
1
2
3
4

Kesimpulan dari isian tabel 3.6 tentang pembagian wilayah Britania Raya adalah sebagai berikut, Ibu kota dari Inggris yaitu London; Irlandia Utara di Belfast; Skotlandia di Edinburgh; dan Wales di Cardiff.

2. Iklim

Berdasarkan letak astronomis dan geografis maka Inggris memiliki iklim sedang dengan suhu tidak lebih rendah dari 0 °C (32 °F) pada musim dingin dan tidak lebih tinggi dari 32 °C (90 °F) pada musim panas. Negara ini juga dikelilingi lautan, sehingga memiliki iklim laut dengan ciri sejuk dan basah. Suhu udara tertinggi yang pernah tercatat mencapai 38,50°C pada musim panas dan -26,10°C pada musim dingin. Walaupun demikian, rerata suhu pada musim dingin antara 4°–5°C dan pada musim panas antara 12°–16°C. Pantai barat bagian utara Inggris lebih hangat dibanding dengan wilayah lainnya.

Letak Negara Inggris yang dekat dengan Samudera Atlantik serta berlokasi di lintang utara menyebabkan curah hujan di Inggris relatif merata sepanjang tahun dengan rata-rata tahunan mencapai 1.000 mm/ tahun. Pantai barat memperoleh curah hujan lebih tinggi dari pantai timurnya, namun curah hujan paling tinggi berada di pegunungan.

3. Bentuk Muka Bumi

Dengan melihat peta negara Inggris dapat diketahui bahwa negara ini merupakan pulau atau kepulauan di lepas pantai barat daratan Eropa. Pulau utama Inggris yaitu Pulau Britania dan Pulau Irlandia, dan beberapa kepulauan seperti kepulauan Shetland, kepulauan Hebrides, dan kepulauan Orkney. Jika dilihat dari reliefnya, wilayah Inggris terbagi menjadi dua bagian, yaitu wilayah yang bergunung-gunung di bagian utara dan dataran rendah yang bergelombang di timur dan selatan. Perbedaan relief ini menunjukkan adanya perbedaan usia batuan. Batuan berusia lebih tua berada di barat dan utara, sedangkan batuan yang lebih muda berada di timur dan selatan.

4. Flora dan fauna

Bagaimana flora dan fauna di Inggris? Telah dijelaskan bahwa Inggris merupakan negara kepulauan dan ukuran wilayahnya pun tidak begitu luas, alih fungsi lahan yang intensif di Inggris sejak masa revolusi industri dan pertanian telah membuat sebagian flora dan fauna populasinya berkurang dan punah di negara ini. Flora dan fauna apa saja yang masih tumbuh dan berkembang di Inggris? Silahkan Ananda baca buku IPS Kelas IX dari Kemendibud, kemudian isi tabel berikut ini!

Tabel 3.8 Flora dan Fauna Inggris



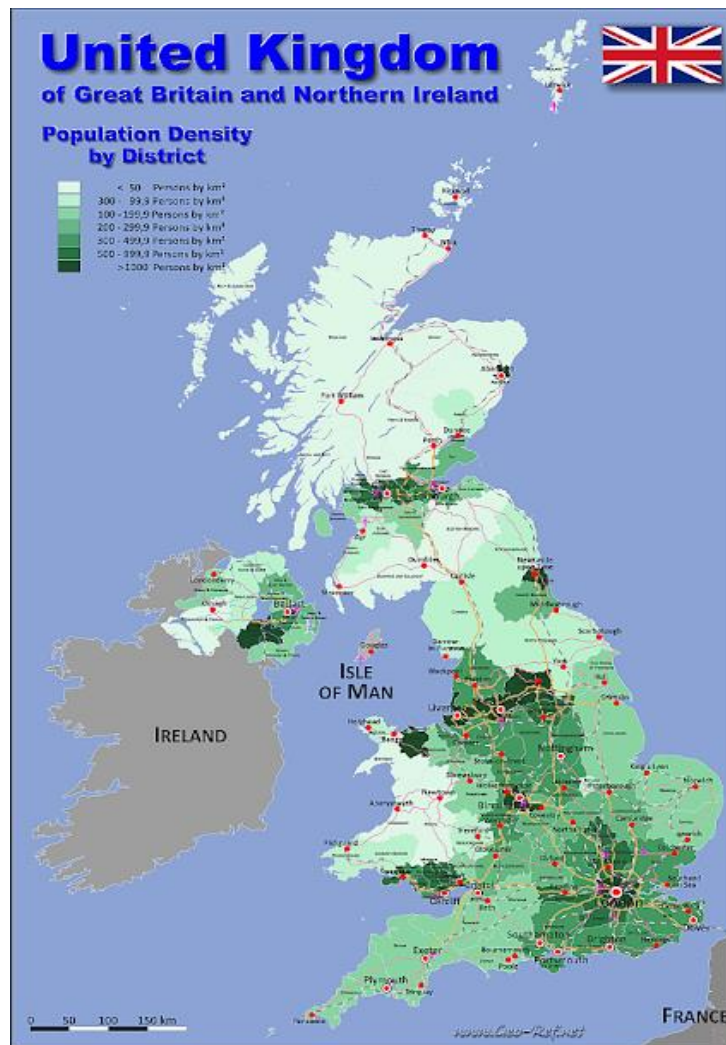
No.	Uraian	Contoh flora dan fauna
1	Flora
2	Fauna

Berdasarkan isian tabel 3.7. maka dapat disimpulkan bahwa Flora yang dapat dijumpai di Inggris adalah pohon ek dan elm, *horse chestnut*, *spruce* Norwegia, *larch* Jepang, dan fir Douglas. Fauna yang masih banyak dijumpai adalah rusa merah Skotlandia dan sekitar 400 burung termasuk rajawali emas dari Skotlandia dan belibis merah yang khas dari Inggris.

5. Geologi

Bagaimana kondisi geologi Inggris? Inggris memiliki sumber daya geologi yang beragam, termasuk batu bara yang sangat mendukung revolusi industri di Inggris. Selain itu, Inggris juga memiliki sumber daya minyak bumi dan gas yang memasok kebutuhan energinya selama abad ke-20. Energi panas bumi juga dimiliki Inggris dalam jumlah terbatas. Beberapa sumber daya mineral yang tersedia di negara ini adalah pasir dan kerikil untuk bangunan, logam, dan lempung.

6. Kondisi penduduk



Kita lanjutkan belajar tentang kondisi penduduk Negara Inggris. Berapa jumlah penduduk Inggris? Pada tahun 2015, penduduk Inggris mencapai 65,1 juta jiwa (WPDS, 2015). Angka pertumbuhan penduduknya hanya 0,4% atau tergolong rendah. Sebagian besar tinggal di daerah perkotaan yang mencapai angka 80% dari jumlah penduduknya. Kota London sebagai ibukota negara dihuni oleh sekitar 12% penduduk Inggris, sementara daerah bagian utara seperti Skotlandia, Wales dan Irlandia Utara penduduknya jarang. Sebaran kepadatan penduduk Inggris dapat dilihat dari peta berikut ini!

Gambar 3.5 Peta Kepadatan Penduduk Inggris

Sumber: <https://blog.paperplane-tm.site/>

Selain sebaran kepadatan penduduk Inggris yang dapat dilihat dari gambar 3.5, dapat dijelaskan bahwa Penduduk asli Inggris terdiri atas dua kelompok, yaitu Bangsa Kelt (Skotlandia, Irlandia, dan Wales) dan Bangsa Jerman (Anglo, Saxon, Jute, Denmark, dan Norman). Sebagian besar (87,2 %) penduduknya berkulit putih, sisanya berkulit hitam dan, Asia. Bahasa yang digunakan secara resmi oleh penduduk Inggris tentu saja Bahasa Inggris. Sebagian besar (86,9%) penduduknya beragama Kristen. Sisanya adalah pemeluk agama Islam, Yahudi, Hindu, Sikh, serta tidak beragama (atheis).

C. Tugas



Agar Anda lebih memahami materi kegiatan belajar 2, silahkan Anda mengerjakan tugas berikut ini:

Buat Mind Mapping di kertas A4 atau kertas yang Anda miliki untuk menggambarkan tentang Negara Inggris yang didalamnya meliputi : letak, luas dan batas wilayah, iklim, bentuk muka bumi, flora dan fauna, geologi, dan kondisi penduduk Inggris

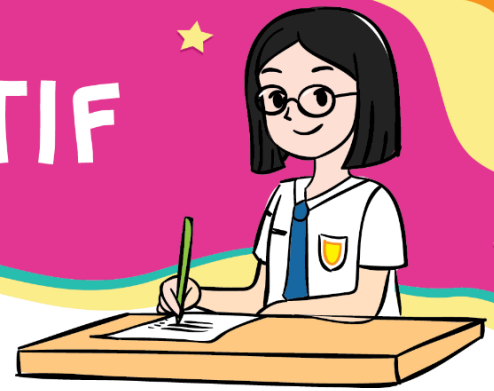


Marilah kita menyusun rangkuman pada kegiatan pembelajaran ini. Ananda bisa berpartisipasi menyusun rangkuman dengan melengkapi kalimat-kalimat di bawah ini:

1. Letak Inggris dilihat dari garis lintang yaitu ... dan ..., dilihat dari garis bujur yaitu ... dan ...
2. Letak Inggris dilihat secara geografis yaitu sebelah utara yaitu ..., sebelah timur yaitu ..., sebelah selatan yaitu..., dan sebelah barat yaitu....
3. Berdasarkan letak astronomis dan geografis maka Inggris memiliki iklim ... dengan suhu tidak lebih rendah dari 0 °C (32 °F) pada musim ... dan tidak lebih tinggi dari 32 °C (90 °F) pada musim panas. Negara ini juga dikelilingi lautan, sehingga memiliki iklim laut dengan ciri sejuk dan basah.
4. Flora yang dapat dijumpai di Inggris adalah ..., ..., ..., dan
5. Fauna yang masih banyak dijumpai di Inggris adalah
6. Inggris memiliki sumber daya geologi yang beragam, termasuk ... yang sangat mendukung revolusi industri di Inggris. Selain itu, Inggris juga memiliki sumber daya minyak bumi dan gas yang memasok kebutuhan energinya selama abad ke-20.
7. Penduduk asli Inggris adalah....
8. Jumlah penduduk Inggris... juta jiwa (WPDS, 2015).
9. Sebaran penduduk di Inggris di perkotaan yang mencapai angka ...% dari jumlah penduduknya. Kota London sebagai ibukota negara dihuni oleh sekitar ...% penduduk Inggris, sementara daerah bagian utara seperti Skotlandia, Wales dan Irlandia Utara penduduknya jarang.
10. Penduduknya beragama Kristen...%, dan ...% adalah pemeluk agama Islam, Yahudi, Hindu, Sikh, serta tidak beragama (atheis).

Bagus! Ananda telah berhasil melengkapi rangkuman, sekarang coba bacalah sekali lagi rangkuman yang telah dibuat!

E. TES FORMATIF



Untuk mengetahui apakah Anda telah menguasai materi pelajaran pada Modul 3 ini, kerjakan tugas yang disediakan. Tes formatif kegiatan belajar 2 ini harus dikerjakan sendiri tanpa melihat kunci jawaban. Jawablah pertanyaan berikut secara jelas!

Tabel 3.9 Soal Tes Formatif Kegiatan Belajar 2

No.	Soal	Jawaban
1	Jelaskan letak Inggris secara astronomis dan geografis!	
2	Jelaskan kaitan antara letak astronomis dan geografis dengan iklim di Inggris !	
3	Deskripsikan bentuk muka bumi Inggris!	
4	Jelaskan flora dan fauna Inggris!	
5	Deskripsikan geologi Inggris!	
6	Deskripsikan kondisi penduduk Inggris!	

Petunjuk Evaluasi Hasil Pengerjaan Tes

1. Setelah Ananda selesai mengerjakan Tes Formatif Kegiatan Belajar 2 ini, silahkan cocokkan jawaban Ananda dengan kunci jawaban yang telah disediakan pada bagian lampiran Modul 3. Kemudian hitung tingkat penguasaan yang dapat Ananda capai dengan menggunakan rumus berikut ini:

$$\text{Nilai} : \frac{\text{Jumlah Jawaban Benar}}{\text{Jumlah Soal Seluruhnya}} \times 100$$

2. Jika Nilai Capaian yang Ananda peroleh kurang dari 75 (disesuaikan dengan KKM yang ditetapkan), Ananda harus mempelajari kembali materi yang belum dikuasai. Jika masih mengalami kesulitan, catatlah pada buku catatan Ananda bagian mana saja yang masih belum Ananda pahami untuk kemudian Ananda dapat mendiskusikannya bersama teman, menceritakannya kepada orang tua, atau dapat menanyakannya langsung kepada Bapak/Ibu Guru pada saat jadwal kegiatan pembelajaran berlangsung.
3. Jika tingkat penguasaan yang Ananda peroleh lebih dari atau sama dengan 75, Ananda dapat melanjutkan Kegiatan Belajar selanjutnya.

IV

KEGIATAN BELAJAR 3



Dinamika Penduduk Benua Eropa

A. Indikator Pembelajaran

Setelah melaksanakan kegiatan pembelajaran 3, Ananda diharapkan dapat:

1. Menjelaskan jumlah penduduk Benua Eropa
2. mendeskripsikan persebaran penduduk Benua Eropa
3. Menganalisa komposisi Penduduk Benua Eropa
4. Menganalisa pertumbuhan penduduk Benua Eropa

B. Aktivitas Pembelajaran



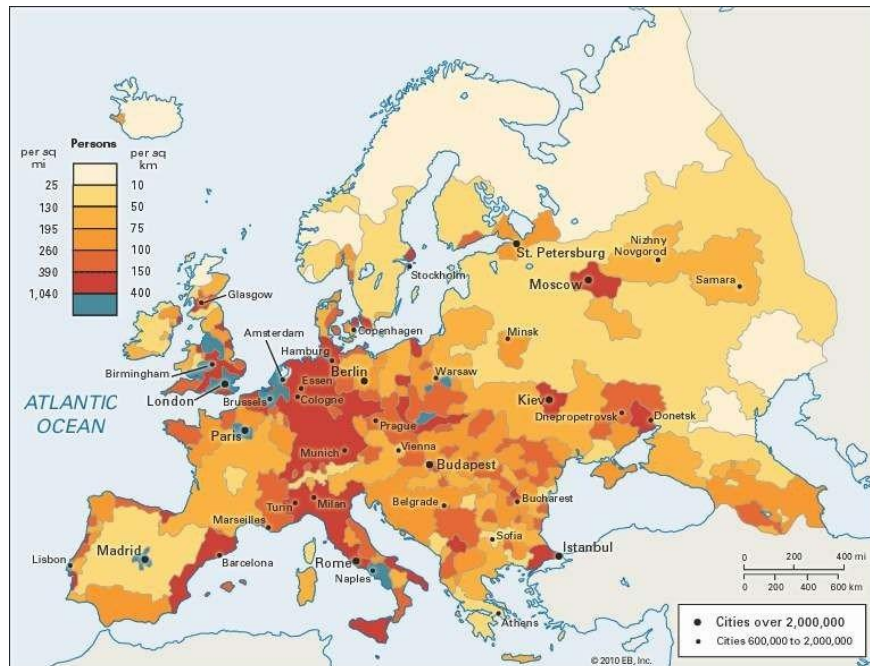
Untuk kegiatan belajar 3 ini, Ananda belajar tentang dinamika penduduk Benua Eropa. Pada kegiatan belajar 1 modul ini, Ananda belajar tentang empat wilayah Benua Eropa. Siapa diantara Ananda yang masih ingat? Pada kegiatan belajar 1 bahwa Eropa dibagi menjadi empat pembagian wilayah. Jumlah penduduk Benua Eropa dapat dilihat dari masing-masing negara di empat wilayah tersebut. Setiap wilayah di dalamnya terdiri atas beberapa negara sehingga dinamika penduduk masing-masing wilayah tentu akan berbeda tergantung faktor yang mempengaruhinya. Secara umum dinamika penduduk tersebut dipengaruhi oleh beberapa faktor antara lain dipengaruhi oleh angka kelahiran atau natalitas, angka kematian atau mortalitas, dan migrasi.

1. Jumlah Penduduk Benua Eropa

Siapakah yang tahu tentang jumlah penduduk benua Eropa? Pada tahun 2005 jumlah penduduk Eropa mencapai 730.000.000 jiwa. Pada tahun 2015, angka tersebut bertambah menjadi 742.000.000 jiwa. Melihat pertambahan sebanyak 12.000.000 jiwa dalam kurun waktu 10 tahun artinya pertambahan penduduk Eropa relatif lebih rendah. Angka kelahiran hanya 11 jiwa per 1.000 penduduk dan angka kematian juga sama yaitu 11 kematian tiap 1.000 penduduk. Bertambahnya penduduk Eropa disumbang dari migrasi masuk ke Eropa dari benua lainnya. Laju pertumbuhan penduduk Eropa sangat rendah bahkan kurang dari 1%, yaitu hanya 0,2% per tahun.

2. Sebaran Penduduk Benua Eropa

Silahkan Anda perhatikan peta kepadatan penduduk Benua Eropa berikut ini:



Gambar 3.6 Peta Persebaran Penduduk Eropa

Sumber: <https://abyadi.com/dinamika-penduduk-eropa/>

Dengan memperhatikan peta 3.6 dapat terlihat dari warna yang nampak pada peta bahwa penduduk Eropa tersebar di sejumlah wilayah. Legenda warna pada peta menunjukkan bahwa kepadatan penduduk dapat dilihat dengan jelas. Umumnya konsentrasi penduduk berada di Eropa Utara, Selatan, dan Barat. Konsentrasi penduduk tampak pada kota-kota besar dan sekitarnya, seperti Amsterdam, Brussel, London, Madrid, dan Warsawa.

3. Komposisi Penduduk Benua Eropa

Bagaimana komposisi penduduk Benua Eropa? Anda dapat mempelajari komposisi penduduk dengan membaca sumber lain. Komposisi penduduk Eropa dilihat dari kualitas hidup digolongkan menjadi dua yaitu kualitas hidup sangat tinggi dan tinggi. Untuk mengetahui Wilayah benua Eropa yang masuk pada kategori kualitas penduduk sangat tinggi dan tinggi, silahkan Anda isi tabel berikut ini!



Tabel 3.10 Sebaran Penduduk Benua Eropa

No .	Sebaran wilayah	Kepadatan Penduduk *)
1	Tinggi/rendah
2	Tinggi/rendah

*) pilih salah satu

Kesimpulan dari isian tabel 3.10 bahwa Penduduk Eropa umumnya memiliki kualitas hidup sangat tinggi dan tinggi. Negara di Eropa dengan kualitas penduduk sangat tinggi berada di Eropa Barat, Utara, dan Selatan, sedangkan untuk Eropa timur kualitasnya tergolong tinggi. Negara di Eropa dengan kualitas penduduk sangat tinggi umumnya berada di Eropa Barat, Utara, dan Selatan, sedangkan untuk Eropa timur kualitasnya tergolong tinggi. Negara dengan kualitas penduduk sangat tinggi di antaranya Inggris, Jerman, Perancis, dan Spanyol. Negara dengan kualitas penduduk tinggi di antaranya adalah Rumania, Ukraina, dan Bulgaria.

Untuk mengetahui komposisi penduduk Eropa dilihat dari usia, silahkan Ananda isi tabel berikut!



Tabel 3.11 Komposisi Penduduk berdasar Usia

No.	Kelompok Usia	Kategori
1	≤ 15 tahun
2	≥ 65 tahun
3	15- 65 tahun

Hasil isian tabel 3.11 dapat disimpulkan bahwa Penduduk Eropa menunjukkan bahwa sebesar 16% kurang dari 15 tahun dan sebesar 17% berusia 65 tahun atau lebih. Ini berarti 33 persen penduduk Eropa termasuk kategori tidak produktif. Sebesar 67% penduduknya berusia antara 15 tahun sampai 65 tahun dan termasuk penduduk kelompok produktif.

Penduduk Eropa sangat beragam, namun sebagian besar penduduknya termasuk keturunan induk bangsa Kaukasoid yang terbagi menjadi beberapa suku bangsa. Berdasarkan ras dan ciri fisiknya, penduduk Eropa dikelompokkan menjadi lima suku bangsa. Untuk mempelajari lebih lanjut tentang suku bangsa Benua Eropa, Ananda isi tabel berikut!



Tabel 3.12 Tabel Suku Bangsa Penduduk Eropa

No.	Suku Bangsa	Ciri-ciri	Wilayah Hidup
1	Bangsa Nordik
2	Bangsa Alpen
3	Bangsa Mediteran
4	Bangsa Slavia
5	Bangsa Dinarik

Kesimpulan dari isian tabel 3.12 penduduk Eropa dapat dikelompokkan sebagai berikut:

- a. Bangsa Nordik, ciri fisik suku bangsa ini memiliki rambut pirang, mata biru, tengkorak panjang, dan muka sempit. Mereka banyak tinggal di Eropa Barat dan Eropa Utara, yaitu Norwegia, Inggris, Denmark, Belanda, Swedia, Belgia, dan Jerman bagian utara;
- b. Bangsa Alpen, ciri fisik memiliki rambut hitam, mata hitam, tengkorak lebar, dan tidak terlalu tinggi. Suku bangsa ini banyak terdapat di Eropa Tengah dan Eropa Selatan, yaitu Perancis, Swiss, Polandia, Austria, dan Jerman bagian selatan;
- c. Bangsa Mediteran, ciri fisik memiliki rambut hitam, mata hitam, badan dan tengkorak menyerupai bangsa Nordik, terdapat di kawasan Eropa Selatan, yaitu Yunani, Italia, Portugal, dan Spanyol;
- d. Bangsa Slavia, ciri fisik menyerupai bangsa Alpen. Mereka banyak tinggal di Eropa Timur yaitu Kroasia, Bulgaria, Serbia, Montenegro, Ceko, Rusia, Ukraina, dan Slovakia; dan
- e. Bangsa Dinarik, ciri memiliki rambut gelap dan banyak terdapat di Rumania.

Bagaimana Agama yang dianut penduduk Benua Eropa? Penduduk Eropa menganut beragam agama, jumlah pemeluk terbanyak ialah Agama Katolik Roma tersebar di Perancis, Spanyol, Portugal, Italia, Irlandia, Belgia, Jerman bagian selatan, dan Polandia. Kelompok terbesar kedua ialah Kristen Protestan yang sebagian besar berada di negara-negara Eropa Utara dan Eropa Tengah seperti Inggris, Skotlandia, Jerman bagian utara, Belanda, dan negara-negara Skandinavia. Kelompok terbesar ketiga adalah pemeluk Kristen Ortodoks yang umumnya tinggal di Rusia, Ukraina, Belarusia, Yunani, Bulgaria, Rumania, serta Serbia dan Montenegro.

C. Tugas



Agar Ananda lebih memahami materi Kegiatan Belajar 3, silakan Ananda mengerjakan latihan berikut ini!

1. Jelaskan jumlah penduduk Benua Eropa!
2. Buat analisa persebaran penduduk Benua Eropa!
3. Deskripsikan Komposisi Penduduk Benua Eropa dilihat dari Ras, usia, agama, dan kualitas!



Marilah kita menyusun rangkuman pada kegiatan pembelajaran ini. Ananda bisa berpartisipasi menyusun rangkuman dengan melengkapi kalimat-kalimat di bawah ini

1. Pada tahun 2005 jumlah penduduk Eropa mencapai ... jiwa. Pada tahun 2015, angka tersebut bertambah menjadi ... jiwa.
2. Konsentrasi penduduk berada di ..., ..., dan Konsentrasi penduduk tersebut tampak pada kota-kota besar dan sekitarnya, seperti ..., ..., ..., ..., dan
3. Negara di Eropa dengan kualitas penduduk sangat tinggi umumnya berada di ..., ..., dan ..., sedangkan untuk Eropa timur kualitasnya tergolong tinggi.
4. Negara dengan kualitas penduduk sangat tinggi di antaranya ..., ..., ..., dan Spanyol.
5. Negara yang memiliki kualitas penduduk yang tinggi di antaranya adalah ..., ..., ..., dan Negara dengan kualitas penduduk sedang adalah ..., ... dan sejumlah negara lain.
6. Komposisi penduduk Eropa berdasarkan usia menunjukkan bahwa sebesar ... % dari penduduknya berusia kurang dari 15 tahun dan sekitar ... % berusia 65 tahun atau lebih.
7. Usia tidak produktif sebesar ... % dan ...% penduduk usia produktif.
8. Penduduk asli Benua Amerika adalah suku ..., ..., ..., dan
9. Laju pertumbuhan penduduk Asia mencapai ...% per tahun.
10. Penduduk Eropa menganut beragam agama, jumlah pemeluk terbanyak ialah Agama ... tersebar di Perancis, Spanyol, Portugal, Italia, Irlandia, Belgia, Jerman bagian selatan, dan Polandia. Kelompok terbesar kedua ialah ... yang sebagian besar berada di negara-negara Eropa Utara dan Eropa Tengah seperti Inggris, Skotlandia, Jerman bagian utara, Belanda, dan negara-negara Skandinavia. Kelompok terbesar ketiga adalah pemeluk ... yang umumnya tinggal di Rusia, Ukraina, Belarusia, Yunani, Bulgaria, Rumania, serta Serbia dan Montenegro.

Bagus! Ananda telah berhasil melengkapi rangkuman! Sekarang coba bacalah kembali rangkuman yang telah kita susun!

E. TES FORMATIF



Untuk mengetahui apakah Ananda telah menguasai materi pelajaran pada Modul 3 ini, kerjakan tugas yang disediakan. Tes formatif kegiatan belajar 3 ini harus dikerjakan sendiri tanpa melihat kunci jawaban. Jawablah pertanyaan test formatif pada tabel berikut!

Tabel 3.13 Soal Tes Formatif Kegiatan Belajar 3

No.	Soal	Jawaban
1	Deskripsikan sebaran kepadatan penduduk Benua Eropa secara jelas!	
2	Jelaskan sebaran kualitas penduduk Benua Eropa!	
3	Deskripsikan komposisi penduduk benua Eropa berdasarkan Usia!	
4	Deskripsikan komposisi penduduk benua Eropa berdasarkan ras dan daerah asal!	

Petunjuk Evaluasi Hasil Pengerjaan Tes

1. Setelah Ananda selesai mengerjakan Tes Formatif Kegiatan Belajar 3 ini, silahkan cocokkan jawaban Ananda dengan kunci jawaban yang telah disediakan pada bagian lampiran Modul 3, kemudian hitung tingkat penguasaan yang dapat Ananda capai dengan menggunakan rumus berikut ini:

$$\text{Nilai} : \frac{\text{Jumlah Jawaban Benar}}{\text{Jumlah Soal Seluruhnya}} \times 100$$

2. Jika Nilai Capaian yang Ananda peroleh kurang dari 75 (disesuaikan dengan KKM yang ditetapkan), Ananda harus mempelajari kembali materi yang belum dikuasai. Jika masih mengalami kesulitan, catatkan pada buku catatan Ananda bagian mana saja yang masih belum Ananda pahami untuk kemudian Ananda dapat mendiskusikannya bersama teman, menceritakannya kepada orang tua, atau dapat menanyakannya langsung kepada Bapak/Ibu Guru pada saat jadwal kegiatan pembelajaran berlangsung.
3. Jika tingkat penguasaan yang Ananda peroleh lebih dari atau sama dengan 75, Ananda dapat melanjutkan Kegiatan Belajar selanjutnya

TES AKHIR MODUL



PILIHAN GANDA

Pilihlah jawaban yang paling benar!

1. Letak benua Eropa dilihat dari garis astronomis yaitu

- A. 9° BB– 60° BT dan 35° LU– 80° LU
- B. 9° BB– 66° BT dan 36° LU– 80° LU
- C. 9° BB– 66° BT dan 35° LU– 88° LU
- D. 9° BB– 66° BT dan 38° LU– 80° LU

2. Perhatikan negara berikut ini:

- 1) Polandia
- 2) Jerman
- 3) Denmark
- 4) Finlandia
- 5) Portugal
- 6) Swedia

Berdasarkan daftar negara di atas, yang merupakan negara berada wilayah Benua Eropa Utara adalah nomor

- A. 1, 2, dan 4
- B. 2, 3, dan 5
- C. 3, 4, dan 5
- D. 3, 5, dan 6

3. Benua Eropa merupakan benua terkecil kedua setelah Benua Australia. Luas benua Eropa yaitu

- A. 10.055.000 km²
- B. 10.355.000 km²
- C. 10.553.000 km²
- D. 10.555.000 km²

4. Perhatikan negara berikut ini:

- 1) Andorra
- 2) Polandia
- 3) Spanyol
- 4) Luksemburg
- 5) Albania
- 6) Norwegia

Berdasarkan daftar negara di atas, yang merupakan negara berada wilayah Kepulauan Karibia adalah nomor

- A. 1, 2, dan 4
- B. 2, 3, dan 5
- C. 2, 5, dan 6
- D. 3, 5, dan 6

5. Pengaruh letak astronomis terhadap iklim di Benua Eropa yaitu
- masyarakatnya bergerak di bidang pertanian
 - terdapat empat musim yang terjadi di beberapa wilayah
 - mengalami empat musim, yaitu musim semi, panas, gugur, dan dingin.
 - masyarakatnya bekerja di sektor industri
6. Pohon ek atau oak banyak dijumpai dan tumbuh dengan baik di negara
- Kongo
 - Inggris
 - Thailand
 - Brazil
7. Gambar Fauna berikut yang dapat hidup dan berkembang banyak di Benua Eropa adalah



A



C



B



D

8. Letak Negara Inggris dilihat dari garis astronomis yaitu
- 35° LU- 60° LU dan 6° BB- 2° BT
 - 50° LU- 60° LU dan 8° BB- 2° BT
 - 55° LU- 60° LU dan 8° BB- 3° BT
 - 50° LU- 68° LU dan 8° BB- 3° BT
9. Batas Inggris sebelah barat dan utara adalah
- Skotlandia dan Republik Irlandia
 - Skotlandia dan Laut Utara
 - Republik Irlandia dan Selat Inggris
 - Republik Irlandia dan Laut Utara

10. Penduduk Eropa sangat beragam, namun sebagian besar penduduknya termasuk keturunan induk bangsa Kaukasoid yang terbagi menjadi beberapa suku bangsa. Berikut yang merupakan ciri-ciri suku bangsa Nordik adalah ciri fisik
- A. rambut hitam, mata hitam, tengkorak lebar, dan tidak terlalu tinggi. Suku bangsa ini banyak terdapat di Eropa Tengah dan Eropa Selatan.
 - B. rambut hitam, mata hitam, tengkorak lebar, dan tidak terlalu tinggi. Suku bangsa ini banyak terdapat di Eropa Tengah dan Eropa Selatan.
 - C. rambut hitam, mata hitam, badan dan tengkorak menyerupai bangsa Nordik, terdapat di kawasan Eropa Selatan.
 - D. ciri fisik menyerupai bangsa Alpen dan Mereka banyak tinggal di Eropa Timur
11. Penduduk Eropa umumnya memiliki kualitas hidup sangat tinggi dan tinggi. Negara di Eropa dengan kualitas penduduk sangat tinggi umumnya berada di wilayah
- A. Eropa Barat, Timur, dan Tenggara
 - B. Eropa Barat, Utara, dan timur
 - C. Eropa Barat, Utara, dan Selatan
 - D. Eropa Barat, Utara, dan Tenggara
12. Sebaran Penduduk Benua Eropa tidak merata. Sebagian pertumbuhan tinggi dan sebagian lagi rendah. Sebaran Penduduk Amerika tergolong rendah dapat dilihat di daerah
- A. Bagian tengah Benua Amerika, wilayah paling utara dan paling selatan
 - B. Bagian barat dan timur Negara Amerika Serikat, dan Amerika Tengah dan Karibia
 - C. Amerika Tengah dan Karibia, serta bagian barat dan timur Amerika Selatan
 - D. Bagian barat dan timur Negara Amerika Serikat, serta bagian barat dan timur Amerika Selatan
13. Penduduk Eropa tersebar di sejumlah wilayah. Umumnya konsentrasi penduduk berada di wilayah Eropa
- A. Utara, Selatan, dan Barat.
 - B. Barat, Timur, dan Tenggara
 - C. Barat, Utara, dan Selatan
 - D. Barat, Utara, dan Timur
14. Komposisi Penduduk Benua Eropa dikelompokkan menjadi usia tidak produktif dan produktif. Persentase komposisi menurut usia tidak produktif dan produktif adalah
- A. 33 % dan 67 %
 - B. 34 % dan 66%
 - C. 35 % dan 65 %
 - D. 36 % dan 64 %
15. Agama dengan pemeluk terbanyak di Benua Eropa yaitu
- A. Kristen Katholik
 - B. Kristen Protestan
 - C. Kristen Orthodox
 - D. Katolik Roma

LAMPIRAN



GLOSARIUM

- mind mapping* : peta pikiran/ diagram yang menggambarkan secara visual tentang ide, konsep, informasi, atau hal-hal lain
- ortodoks : kepatuhan terhadap keyakinan-keyakinan yang benar dalam kehidupan beragama
- subtropis : wilayah Bumi yang secara astronomis berada di bagian utara dan selatan setelah wilayah tropis yang dibatasi oleh garis balik utara dan garis balik selatan pada lintang $23,5^\circ$ utara dan selatan dari garis ekuator
- tropis : suatu daerah yang terletak di antara garis khatulistiwa. Lebih spesifiknya, daerah ini ada di garis isotherm bumi bagian utara dan selatan atau daerah yang ada di $23,5$ derajat lintang utara serta $23,5$ derajat lintang selatan.

Kunci Jawaban Tugas

KEGIATAN BELAJAR 1

Pertanyaan	Kunci jawaban	Skor
Sebutkan letak benua Eropa secara astronomis!	9 °BB–60° BT dan 35° LU–80 °LU.	2
Jelaskan letak benua Eropa secara geografis!	Secara geografis letak Benua Eropa merupakan sebuah semenanjung dari benua yang disebut Eurasia.	2
Berapakah luas benua Eropa?	Luas Benua Eropa mencapai 10.355.000 km ² .	1
Bagaimana kaitan antara letak astronomis dengan iklim di benua Eropa?	iklim di wilayah Benua Eropa adalah subtropis dan sedang. Kaitan Benua Eropa bahwa Benua Eropa mengalami empat musim, yaitu musim semi, panas, gugur dan dingin.	2
Jelaskan empat pembagian wilayah/region dari benua Eropa !	Eropa terbagi atas empat kawasan atau region yakni kawasan Eropa Barat, Eropa Timur, Eropa Selatan, dan Eropa Utara	2
Berikan contoh minimal 4 negara dari masing-masing region/wilayah pembagian benua Eropa!	Eropa Barat: Inggris, Belgia, Belanda, dan Luxemburg Eropa Timur: Ukraina, Estonia, Lithuania, dan Moldova Eropa Selatan: Yunani, Italia, Portugal, dan Spanyol Eropa Utara: Denmark , Norwegia, Swedia, dan Finlandia	4
Jumlah skor		13

KEGIATAN BELAJAR 2

Pertanyaan	
Buat Mind Mapping di kertas A4 atau kertas yang Anda miliki untuk menggambarkan tentang Negara Inggris yang didalamnya meliputi : letak, luas dan batas wilayah, iklim, bentuk muka bumi, flora dan fauna, geologi, dan kondisi penduduk Inggris!	
PEDOMAN PENILAIAN	Skor
Jika komponen mind mapping Sangat lengkap (letak, luas dan batas wilayah, iklim, bentuk muka bumi, flora dan fauna, geologi, dan kondisi penduduk)	6
Jika komponen mind mapping lengkap (letak, luas dan batas wilayah, iklim, bentuk muka bumi, flora dan fauna, geologi, dan kondisi penduduk) hanya ada lima jawaban	5
Jika komponen mind mapping kurang lengkap (letak, luas dan batas wilayah, iklim, bentuk muka bumi, flora dan fauna, geologi, dan kondisi penduduk) hanya ada 4 jawaban	4
Jika komponen mind mapping kurang lengkap (letak, luas dan batas wilayah, iklim, bentuk muka bumi, flora dan fauna, geologi, dan kondisi penduduk) hanya ada 3 jawaban	3
Jika komponen mind mapping tidak lengkap (letak, luas dan batas wilayah, iklim, bentuk muka bumi, flora dan fauna, geologi, dan kondisi penduduk) hanya ada 2 jawaban	2
Jika komponen sangat tidak lengkap (letak, luas dan batas wilayah, iklim, bentuk muka bumi, flora dan fauna, geologi, dan kondisi penduduk) hanya satu jawaban	1
<p style="text-align: center;"> Nilai Akhir = $\frac{\text{jumlah skor yang diperoleh}}{6} \times 100$ </p>	

KEGIATAN BELAJAR 3

Pertanyaan	Kunci jawaban	Skor
Jelaskan jumlah penduduk Benua Eropa!	Pada tahun 2005 jumlah penduduk Eropa mencapai 730.000.000 jiwa. Pada tahun 2015	1
Buat analisa persebaran penduduk Benua Eropa!	Kepadatan penduduk dapat dilihat dengan jelas. Umumnya konsentrasi penduduk berada di Eropa Utara, Selatan, dan Barat. Konsentrasi penduduk tampak pada kota-kota besar dan sekitarnya, seperti Amsterdam, Brussel, London, Madrid, dan Warsawa.	2
Deskripsikan Komposisi Penduduk Benua Eropa dilihat dari Ras, usia, agama, dan kualitas!	<ol style="list-style-type: none"> Komposisi penduduk Eropa dilihat dari kualitas hidup digolongkan menjadi dua yaitu kualitas hidup sangat tinggi dan tinggi. Komposisi dilihat dari usia. Ini berarti 33 persen penduduk Eropa termasuk kategori tidak produktif. Sebesar 67 % penduduknya berusia antara 15 tahun sampai 65 tahun dan termasuk penduduk kelompok produktif. Komposisi penduduk Eropa dilihat dari suku bangsa : Bangsa Nordik, Bangsa Alpen, Bangsa Mediteran, Bangsa Slavia dan Bangsa Dinarik 	4

	4. Komposisi dilihat dari Agama : terbanyak (Katholik Roma), banyak (Kristen Protestan), dan kristen ortodoks.	
Jumlah skor		7



Kunci Jawaban Tes Formatif

KEGIATAN BELAJAR 1

No.	Soal	Jawaban	Skor
1	Jelaskan letak Benua Eropa secara geografis!	Benua Eropa berada di Bagian Barat Benua Asia dan menjadi satu daratan dengan Asia. Benua Eropa dan Benua Asia hanya dipisahkan oleh pegunungan Ural.	2
2	Jelaskan letak Benua Eropa Secara Astronomis!	Eropa secara astronomi yaitu pada 9 °BB–60° BT dan 35° LU–80 °LU.	2
3	Berapa luas Benua Eropa?	Luas Benua Eropa mencapai 10.355.000 km ² .	1
4	Bagaimana kaitan antara letak secara astronomis dengan iklim Benua Eropa?	Iklim di wilayah Benua Eropa adalah subtropis dan sedang. Kaitan Benua Eropa bahwa Benua Eropa mengalami empat musim, yaitu musim semi, panas, gugur dan dingin.	2
5	Sebutkan empat pembagian wilayah Benua Eropa!	Eropa terbagi atas empat kawasan atau region yakni kawasan Eropa Barat, Eropa Timur, Eropa Selatan, dan Eropa Utara.	2
6	Berikan contoh masing-masing minimal dua negara pembagian wilayah Benua Eropa!	Eropa Barat: Inggris, Belgia, Belanda, dan Luxemburg Eropa Timur: Ukraina, Estonia, Lithuania, dan Moldova Eropa Selatan: Yunani, Italia, portugasl, dan Spanyol Eropa Utara : Denmark , Norwegia, Swedia, dan Finlandia	4
Jumlah skor			13

KEGIATAN BELAJAR 2

No.	Soal	Jawaban	Skor
1	Jelaskan letak Inggris secara astronomis dan geografis!	Secara astronomis Inggris terletak diantara 50° LU – 60° LU dan 8°BB – 2°BT.	2
2	Jelaskan kaitan antara letak astronomis dan geografis dengan iklim di Inggris !	Berdasarkan letak astronomis dan geografis maka Inggris memiliki iklim sedang dengan suhu tidak lebih rendah dari 0 °C (32 °F) pada musim dingin dan tidak lebih tinggi dari 32 °C (90 °F) pada musim panas. Negara ini juga dikelilingi lautan, sehingga memiliki iklim laut dengan ciri sejuk dan basah. Suhu udara tertinggi yang pernah tercatat mencapai 38,50°C pada musim panas dan -26,10°C pada musim dingin. Walaupun demikian, rerata suhu pada musim dingin antara 4°–5°C dan pada musim panas antara 12°–16°C.	2
3	Deskripsikan bentuk muka bumi Inggris!	Dengan melihat peta negara Inggris dapat diketahui bahwa negara ini merupakan pulau atau kepulauan di lepas pantai barat daratan Eropa. Pulau utama Inggris yaitu Pulau Britania dan Pulau Irlandia, dan beberapa kepulauan seperti kepulauan Shetland, kepulauan Hebrides, dan kepulauan Orkney. Jika dilihat dari reliefnya, wilayah Inggris terbagi menjadi dua bagian, yaitu wilayah yang bergunung-gunung di bagian utara dan dataran rendah yang bergelombang di timur dan selatan.	2
4	Jelaskan flora dan fauna Inggris!	Flora yang dapat dijumpai di Inggris adalah pohon ek dan elm, horse chestnut, spruce Norwegia, larch Jepang, dan fir Douglas. Fauna yang masih banyak dijumpai adalah rusa merah Skotlandia	2
5	Deskripsikan geologi Inggris!	Inggris memiliki sumber daya geologi yang beragam, termasuk batu bara yang sangat mendukung revolusi industri di Inggris. Selain itu, Inggris juga memiliki sumber daya minyak bumi dan gas yang memasok kebutuhan energinya selama abad ke-20. Energi panas bumi juga dimiliki Inggris dalam jumlah terbatas.	2
6	Deskripsikan kondisi penduduk Inggris!	Pada tahun 2015, penduduk Inggris mencapai 65,1 juta jiwa (WPDS, 2015). Angka pertumbuhan penduduknya hanya 0,4% atau tergolong rendah. Sebagian besar tinggal di daerah perkotaan yang mencapai angka 80% dari jumlah penduduknya. Kota London sebagai ibukota negara dihuni oleh sekitar 12% penduduk Inggris, sementara daerah bagian utara seperti Skotlandia, Wales dan Irlandia Utara penduduknya jarang.	2
Jumlah skor			12

KEGIATAN BELAJAR 3

No.	Soal	Jawaban	Skor
1	Deskripsikan sebaran kepadatan penduduk Benua Eropa secara jelas!	Pada tahun 2005 jumlah penduduk Eropa mencapai 730.000.000 jiwa. Pada tahun 2015, angka tersebut bertambah menjadi 742.000.000 jiwa. Melihat pertambahan sebanyak 12.000.000 jiwa dalam kurun waktu 10 tahun artinya pertambahan penduduk Eropa yang relatif lebih rendah. Angka kelahiran hanya 11 jiwa per 1.000 penduduk dan angka kematian juga sama yaitu 11 kematian tiap 1.000 penduduk.	2
2	Jelaskan sebaran kualitas penduduk Benua Eropa!	bahwa Penduduk Eropa umumnya memiliki kualitas hidup sangat tinggi dan tinggi. Negara di Eropa dengan kualitas penduduk sangat tinggi umumnya berada di Eropa Barat, Utara, dan Selatan, sedangkan untuk Eropa timur kualitasnya tergolong tinggi. Negara dengan kualitas penduduk sangat tinggi di antaranya Inggris, Jerman, Perancis, dan Spanyol. Negara dengan kualitas penduduk tinggi di antaranya adalah Rumania, Ukraina, dan Bulgaria.	2
3	Deskripsikan komposisi penduduk benua Eropa berdasarkan Usia!	Komposisi penduduk berdasarkan usia yaitu 33 persen penduduk Eropa termasuk kategori tidak produktif. Sebesar 67 % penduduknya berusia antara 15 tahun sampai 65 tahun dan termasuk penduduk kelompok produktif.	2
4	Deskripsikan komposisi penduduk benua Eropa berdasarkan Agama yang dianut Negara Inggris	Penduduk Eropa menganut beragam agama, jumlah pemeluk terbanyak ialah Agama Katolik Roma tersebar di Perancis, Spanyol, Portugal, Italia, Irlandia, Belgia, Jerman bagian selatan, dan Polandia. Kelompok terbesar kedua ialah Kristen Protestan yang sebagian besar berada di negara-negara Eropa Utara dan Eropa Tengah seperti Inggris, Skotlandia, Jerman bagian utara, Belanda, dan negara-negara Skandinavia. Kelompok terbesar ketiga adalah pemeluk Kristen Ortodoks yang umumnya tinggal di Rusia, Ukraina, Belarusia, Yunani, Bulgaria, Rumania, serta Serbia dan Montenegro.	4
Jumlah Skor			10



Kunci Jawaban Tes Akhir Modul

No	Kunci Jawaban	No	Kunci Jawaban	No	Kunci Jawaban
1	A	6	B	11	C
2	D	7	C	12	A
3	B	8	B	13	A
4	B	9	A	14	A
5	C	10	A	15	D

PEDOMAN PENSKORAN

$$\text{Nilai} : \frac{\text{Jumlah Jawaban Benar}}{\text{Jumlah Soal Seluruhnya}} \times 100$$

DAFTAR PUSTAKA

Lilis Yuliati dkk. 2009. Ilmu Pengetahuan Sosial : Untuk SMP/MTs Kelas IX. Jakarta. Pusat Perbukuan, Departemen Pendidikan Nasional

Population Reference Bureau (2005). *Worl Population Data Sheet*. 2005-world-population-data-sheet_eng.pdf

Population Reference Bureau (2015). *Worl Population Data Sheet*. 2015-world-population-data-sheet_eng.pdf

Setiawan dkk, Ilmu Pengetahuan Sosial SMP Kelas IX, Kementerian Pendidikan dan Kebudayaan Republik Indonesia, Jakarta, 2018

Admin, Pendidikan Umum.2020. Dinamika penduduk Eropa.
<https://abyadi.com/dinamika-penduduk-eropa/> (diakses 2 Oktober 2020)

Geologinesia. 2018. Peta Benua Eropa Lengkap dengan Negara, Batas Wilayah, Sumber Daya Alam dan Keterangan Gambar Lainnya.
<https://www.geologinesia.com/2018/08/peta-benua-eropa.html> (diakses 2 Oktober 2021)

Gilang,Mas.2015. Peta pembagian kawasan di dunia.
<https://masgilangblog.blogspot.com/2015/02/peta-pembagian-kawasan-di-dunia-plain.html> (diakses 2 Oktober 2021)

Pro,Supriyadi.2019. Peta Inggris, Skotlandia, Irlandia Utara, Wales.
<https://www.sejarah-negara.com/393/peta-inggris/> (diakses 2 Oktober 2021)

P2KM, UM Surabaya. Negara-negara Britania Raya.
http://p2k.um-surabaya.ac.id/ind/2-3045-2942/Negara-Negara-Britania-Raya_176622_um-surabaya_p2k-um-surabaya.html (diakses 2 Oktober 2021)

Diterbitkan oleh:

Kementerian Pendidikan, Kebudayaan, Riset, dan Teknologi

Direktorat Jenderal Pendidikan Anak Usia Dini,

Pendidikan Dasar, dan Pendidikan Menengah

Direktorat Sekolah Menengah Pertama