



BARANG MILIK NEGARA

# Modul Pembelajaran SMP Terbuka

# ILMU PENGETAHUAN

# SOSIAL

Kelas  
**IX**



Modul 2

## POTENSI

## BENUA AMERIKA

Kementerian Pendidikan, Kebudayaan, Riset, dan Teknologi  
Direktorat Jenderal Pendidikan Anak Usia Dini,  
Pendidikan Dasar, dan Pendidikan Menengah  
Direktorat Sekolah Menengah Pertama



**Modul Pembelajaran SMP Terbuka**  
**ILMU PENGETAHUAN SOSIAL**  
**Kelas IX**

**Modul 2**  
**POTENSI BENUA AMERIKA**

Kementerian Pendidikan, Kebudayaan, Riset, dan Teknologi  
Direktorat Jenderal Pendidikan Anak Usia Dini,  
Pendidikan Dasar, dan Pendidikan Menengah  
Direktorat Sekolah Menengah Pertama  
2021

© Hak cipta pada Kementerian Pendidikan, Kebudayaan, Riset, dan Teknologi  
Direktorat Jenderal Pendidikan Anak Usia Dini, Pendidikan Dasar, dan Pendidikan Menengah  
Direktorat Sekolah Menengah Pertama

## Modul Pembelajaran SMP Terbuka

# ILMU PENGETAHUAN SOSIAL

### Modul 2: Potensi Benua Amerika Kelas IX

**Pengarah:**

Mulyatsyah

**Penanggung Jawab:**

Eko Susanto

**Kontributor:**

Imam Pranata, Harnowo Susanto,  
Ninik Purwaning Setyorini,  
Maulani Mega Hapsari

**Penulis:**

Suciati

**Reviewer:**

Neni Suharjani

**Editor:**

Didi Teguh Chandra, Amsor,  
Agus Fany Chandra Wijaya, Hutnal Basori,  
Sukma Indira, Kader Revolusi,  
Andi Andangatmadja, Tri Mulya Purwiyanti,  
Tim Layanan Khusus

**Layout Design:**

Ghina Fitriana,  
Belaian Pelangi Baradiva,  
Lulu Mustikaning Apsari

Diterbitkan oleh:  
Kementerian Pendidikan, Kebudayaan, Riset, dan Teknologi  
Direktorat Jenderal Pendidikan Anak Usia Dini,  
Pendidikan Dasar, dan Pendidikan Menengah  
Direktorat Sekolah Menengah Pertama



[www.ditsmp.kemdikbud.go.id](http://www.ditsmp.kemdikbud.go.id)



[ditsmp.kemdikbud](https://www.instagram.com/ditsmp.kemdikbud)



[Direktorat SMP Kemdikbud](#)



[Direktorat SMP](#)

## KATA PENGANTAR

Puji syukur kita panjatkan ke hadirat Tuhan Yang Maha Esa, atas berkat rahmat dan hidayah-Nya, Direktorat Sekolah Menengah Pertama, Direktorat Jenderal Pendidikan Anak Usia Dini, Pendidikan Dasar dan Pendidikan Menengah telah berhasil menyusun Modul Pembelajaran SMP Terbuka kelas IX dengan baik. Tujuan disusunnya Modul Pembelajaran ini adalah sebagai salah satu bentuk layanan penyediaan bahan belajar peserta didik SMP Terbuka agar proses pembelajarannya lebih terarah, terencana, variatif, dan bermakna. Dengan demikian, tujuan memberikan layanan SMP Terbuka yang bermutu bagi peserta didik SMP Terbuka dapat terwujud.

Modul Pembelajaran SMP Terbuka kelas IX yang telah disusun ini disajikan dalam beberapa kegiatan belajar untuk setiap modulnya dan beberapa modul untuk setiap mata pelajarannya sesuai dengan kurikulum yang berlaku. Dengan adanya modul pembelajaran SMP Terbuka kelas IX ini, kami berharap, peserta didik dapat memperoleh kemudahan dan kebermaknaan dalam menjalankan kegiatan pembelajaran mandiri dan terstruktur. Selain itu, Guru Pamong dan Guru Bina pun dapat merancang, mengarahkan, dan mengevaluasi proses pembelajaran dengan lebih baik sebagai bagian dari proses peningkatan mutu layanan di SMP Terbuka. Dengan layanan SMP Terbuka yang bermutu, peserta didik akan merasakan manfaatnya dan termotivasi untuk mencapai cita-citanya menuju kehidupan yang lebih baik.

Dengan diterbitkannya Modul Pembelajaran SMP Terbuka kelas IX ini diharapkan kualitas layanan pembelajaran di SMP Terbuka menjadi lebih baik. Modul Pembelajaran SMP Terbuka kelas IX ini masih jauh dari sempurna, untuk itu kami berharap dapat memperoleh kritik, saran, rekomendasi, evaluasi, dan kontribusi nyata dari berbagai pihak untuk kesempurnaan modul ini. Kami mengucapkan banyak terima kasih kepada semua pihak yang telah berkontribusi aktif dalam proses penyusunan Modul Pembelajaran SMP Terbuka kelas IX ini. Apabila terdapat kekurangan atau kekeliruan, maka dengan segala kerendahan hati akan kami perbaiki sesuai dengan ketentuan yang berlaku di masa yang akan datang.

Jakarta, Desember 2021

Direktur

Sekolah Menengah Pertama,



Drs. Mulyatsyah, M.M.

NIP. 196407141993041001



# DAFTAR ISI

|   |           |
|---|-----------|
| KATA PENGANTAR .....  | iii       |
| DAFTAR ISI .....  | iv        |
| DAFTAR GAMBAR .....   | v         |
| DAFTAR TABEL .....  | vi        |
| <b>I. Pendahuluan .....</b>   | <b>1</b>  |
| A. Deskripsi Singkat .....  | 1         |
| B. Kompetensi Inti dan Kompetensi Dasar .....   | 1         |
| C. Petunjuk Belajar .....   | 2         |
| D. Peran Orang Tua dan Guru .....   | 3         |
| <b>II. Kegiatan Belajar 1: Letak, Luas dan Negara-negara di Benua Amerika .....</b>             | <b>5</b>  |
| A. Indikator Pembelajaran.....  | 5         |
| B. Aktivitas Pembelajaran .....   | 5         |
| C. Tugas .....  | 8         |
| D. Rangkuman .....  | 9         |
| E. Tes Formatif .....   | 10        |
| <b>III. Kegiatan Belajar 2: Amerika Serikat Salah Satu Contoh Negara Di Benua Amerika .....</b> | <b>13</b> |
| A. Indikator Pembelajaran.....  | 13        |
| B. Aktivitas Pembelajaran .....   | 13        |
| C. Tugas .....  | 18        |
| D. Rangkuman .....  | 19        |
| E. Tes Formatif .....   | 20        |
| <b>IV. Kegiatan Belajar 3: Dinamika Penduduk Benua Amerika .....</b>                            | <b>23</b> |
| A. Indikator Pembelajaran.....  | 23        |
| B. Aktivitas Pembelajaran .....   | 23        |
| C. Tugas .....  | 25        |
| D. Rangkuman .....  | 26        |
| E. Tes Formatif .....   | 27        |
| <b>TES AKHIR MODUL .....</b>  | <b>29</b> |
| <b>LAMPIRAN .....</b>   | <b>33</b> |
| A. Glosarium.....   | 33        |
| B. Kunci Jawaban Tugas .....  | 34        |
| C. Kunci Jawaban Tes Formatif.....  | 38        |
| D. Kunci Jawaban Tes Akhir Modul .....  | 41        |
| <b>DAFTAR PUSTAKA .....</b>   | <b>43</b> |



# DAFTAR GAMBAR

|   |    |
|---|----|
| Gambar 2.1 Peta Benua Amerika .....                   | 5  |
| Gambar 2.2 Peta Pembagian Wilayah Benua Amerika ..... | 7  |
| Gambar 2.3 Peta Amerika Serikat .....                 | 13 |
| Gambar 2.4 Peta Persebaran Penduduk Amerika .....     | 24 |





# DAFTAR TABEL

|  |    |
|--|----|
| Tabel 2.1 Kompetensi Inti dan Kompetensi Dasar ..... | 1  |
| Tabel 2.2 Letak Benua Amerika .....                  | 6  |
| Tabel 2.3 Batas Wilayah Benua Amerika .....          | 6  |
| Tabel 2.4 Negara-negara di Benua Amerika .....       | 8  |
| Tabel 2.5 Soal Tes Formatif Kegiatan Belajar 1.....  | 10 |
| Tabel 2.6 Batas Amerika Serikat .....                | 14 |
| Tabel 2.7 Sebaran Musim Amerika Serikat .....        | 14 |
| Tabel 2.8 Flora Amerika Serikat .....                | 15 |
| Tabel 2.9 Fauna Amerika Serikat .....                | 16 |
| Tabel 2.10 Soal Tes Formatif Kegiatan Belajar 2..... | 20 |
| Tabel 2.11 Sebaran Penduduk Benua Amerika.....       | 24 |
| Tabel 2.12 Soal Tes Formatif Kegiatan Belajar 3..... | 27 |





# I PENDAHULUAN



## POTENSI BENUA AMERIKA

### A. DESKRIPSI SINGKAT

Bagaimana kabar Ananda hari ini? Semoga Ananda dalam keadaan sehat semua, aamiin. Jangan lupa Ananda berdoa sebelum memulai aktivitasnya dan selalu menjaga kesehatan dimanapun berada! Kita akan mulai belajar modul 2 ini dengan menyesuaikan waktu luang Ananda dan berharap Ananda sukses dalam belajar. Pada modul 2 ini Ananda akan belajar tentang Potensi Benua Amerika. Bagaimana Ananda belajar tentang Benua Amerika dengan segala potensinya? Silakan pelajari modul 2 ini dengan cara mengamati atau membaca buku sumber lain, kemudian isi aktivitas kegiatan belajar dengan mengisi tabel yang telah disediakan untuk Ananda kemudian komunikasikan hasil isian aktivitas belajar tersebut dengan Guru Pamong atau Guru Bina. Apabila Ananda mengalami kesulitan mempelajari modul ini dapat bertanya pada Guru Bina atau Guru Pamong di tempat kegiatan belajar.

Ayo kita pelajari modul ini!

### B. KOMPETENSI INTI DAN KOMPETENSI DASAR

Kompetensi Dasar (KD) merupakan kemampuan dan materi pembelajaran minimal yang harus dicapai Ananda untuk suatu mata pelajaran pada setiap satuan pendidikan yang mengacu pada kompetensi inti. Berikut Kompetensi Inti dan Kompetensi Dasar pada pembelajaran Modul 2 ini.

Tabel 2.1 Kompetensi Inti dan Kompetensi Dasar

| Kompetensi Inti Pengetahuan   | Kompetensi Inti Keterampilan  |
|---|---|
| 3. Memahami pengetahuan (faktual, konseptual, dan prosedural) berdasarkan rasa ingin tahunya tentang ilmu pengetahuan, teknologi, seni, budaya terkait fenomena dan kejadian tampak mata. | 4. Mencoba, mengolah, dan menyaji dalam ranah konkret (menggunakan, mengurai, merangkai, memodifikasi, dan membuat) dan ranah abstrak (menulis, membaca, menghitung, menggambar, dan mengarang) sesuai dengan yang dipelajari di sekolah dan sumber lain yang sama dalam sudut pandang/teori. |



| Kompetensi Dasar Pengetahuan  | Kompetensi Dasar Keterampilan  |
|---|--|
| 3.1. Menelaah perubahan keruangan dan interaksi antarruang negara-negara Asia dan benua lainnya yang diakibatkan faktor alam, manusia dan pengaruhnya terhadap keberlangsungan kehidupan manusia dalam ekonomi, sosial, pendidikan dan politik; | 4.1. Menyajikan hasil telaah tentang perubahan keruangan dan interaksi antarruang negara-negara Asia dan benua lainnya yang diakibatkan faktor alam, manusia dan pengaruhnya terhadap keberlangsungan kehidupan manusia dalam ekonomi, sosial, pendidikan dan politik. |

### C. PETUNJUK BELAJAR

Sebelum Ananda menggunakan Modul 2 ini terlebih dahulu Ananda baca petunjuk mempelajari modul berikut ini:

1. Pelajarilah modul ini dengan baik. Mulailah mempelajari materi pelajaran yang ada dalam Modul ini di setiap kegiatan pembelajaran hingga Ananda dapat menguasainya dengan baik;
2. Lengkapilah setiap bagian aktivitas dan tugas yang terdapat dalam modul ini dengan semangat dan gembira. Jika mengalami kesulitan dalam melakukannya, catatlah kesulitan tersebut pada buku catatan Ananda untuk dapat mendiskusikannya bersama teman, menceritakannya kepada orang tua, atau dapat menanyakannya langsung kepada Bapak/Ibu Guru pada saat jadwal kegiatan pembelajaran berlangsung;
3. Lengkapi dan pahamiilah setiap bagian dalam rangkuman sebagai bagian dari tahapan penguasaan materi modul ini;
4. Kerjakan bagian Tes Formatif pada setiap bagian Kegiatan Belajar sebagai indikator penguasaan materi dan refleksi proses belajar Ananda pada setiap kegiatan belajar. Ikuti petunjuk pengerjaan dan evaluasi hasil pengerjaannya dengan seksama;
5. Jika Ananda telah menguasai seluruh bagian kompetensi pada setiap kegiatan belajar, lanjutkan dengan mengerjakan Tes Akhir Modul secara sendiri untuk kemudian dilaporkan kepada Bapak/Ibu Guru; dan
6. Gunakan Daftar Pustaka dan Glosarium yang disiapkan dalam modul ini untuk membantu mempermudah proses belajar Ananda.



Teruntuk Bapak/Ibu Orang Tua peserta didik, berkenan Bapak/Ibu dapat meluangkan waktunya untuk mendengarkan dan menampung serta membantu memecahkan permasalahan belajar yang dialami oleh Ananda peserta didik. Jika permasalahan belajar tersebut belum dapat diselesaikan, arahkanlah Ananda peserta didik untuk mencatatkannya dalam buku catatan mereka untuk didiskusikan bersama teman maupun Bapak/Ibu Guru mereka saat jadwal kegiatan pembelajaran berlangsung.

Teruntuk Bapak/Ibu Guru, modul ini disusun dengan orientasi aktivitas peserta didik dan setiap modul dirancang untuk dapat mencakup satu atau lebih pasangan kompetensi-kompetensi dasar yang terdapat pada kompetensi inti 3 (pengetahuan) dan kompetensi inti 4 (keterampilan). Setiap peserta didik diarahkan untuk dapat mempelajari modul ini secara mandiri, namun demikian mereka juga diharapkan dapat menuliskan setiap permasalahan pembelajaran yang ditemuinya saat mempelajari modul ini dalam buku catatan mereka. Berkenaan dengan permasalahan-permasalahan tersebut, diharapkan Bapak/Ibu Guru dapat membahasnya dalam jadwal kegiatan pembelajaran yang telah dirancang sehingga Ananda peserta didik dapat memahami kompetensi-kompetensi yang disiapkan dengan tuntas.



## II

# KEGIATAN BELAJAR 1



## Letak, Luas, dan Negara-negara di Benua Amerika

### A. Indikator Pembelajaran

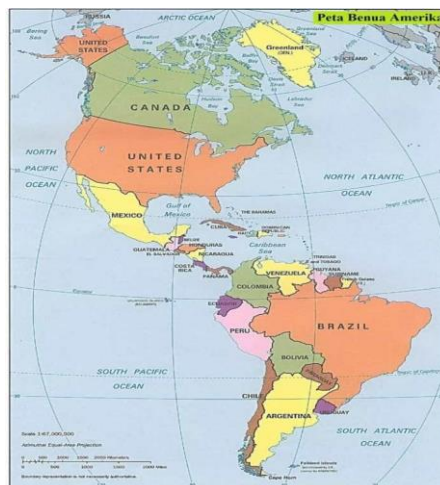
Setelah melaksanakan kegiatan pembelajaran 1, Ananda diharapkan dapat:

1. menunjukkan letak Benua Amerika secara astronomis dan geografis;
2. menganalisa kaitan antara letak astronomis dengan iklim Benua Amerika;
3. menjelaskan lima wilayah/region Benua Amerika; dan
4. menunjukkan negara-negara yang berada di Benua Amerika berdasarkan pembagian region/wilayah.

### B. Aktivitas Pembelajaran



Sebelum memulai aktivitas pembelajaran, silakan Ananda berdoa. Semoga Tuhan Yang Maha Esa senantiasa memberikan kemudahan keberkahan kesehatan dan keselamatan dalam semua aktivitas Ananda untuk mencari ilmu. Aktivitas pembelajaran yang dilakukan untuk mencapai indikator pembelajaran tersebut materi pokok yang harus Ananda pelajari adalah: Letak, luas, dan Negara-negara di Benua Amerika.



Gambar 2.1 Peta Benua Amerika

Sumber: <https://peta-hd.com/>

Dengan mengamati peta 2.1 tersebut, bagaimana letak benua Amerika? Letak benua Amerika membujur dari utara ke selatan dengan dua daratan yang luas di bagian utara (Amerika Utara) dan selatan (Amerika Selatan). Kedua daratan tersebut dihubungkan oleh daratan sempit yaitu Amerika Tengah. Benua Amerika sering juga disebut sebagai Benua Merah. Sebutan itu didapat karena benua tersebut terdapat Suku Bangsa Indian. Suku Indian tidak berkulit merah sebenarnya kulit mereka terlihat merah karena suku indian suka melumuri kulit dengan cat berwarna merah. Apakah Anda sudah mendapat gambaran tentang letak Benua secara geografis? Untuk mengetahui lebih jelas letak dan luas benua Amerika, silahkan Anda lengkapi tabel berikut ini dengan membaca buku sumber yang dimiliki!



Tabel 2.2 Letak Benua Amerika

| Letak Astronomis | Uraian |
|------------------|--------|
| Lintang          | .....  |
| Bujur            | .....  |

Silahkan Lengkapi letak geografis dari Benua Asia dengan mengisi tabel berikut!



Tabel 2.3 Batas Wilayah Benua Amerika

| Letak geografis | Uraian |
|-----------------|--------|
| Utara           | .....  |
| Timur           | .....  |
| Barat           | .....  |
| Selatan         | .....  |

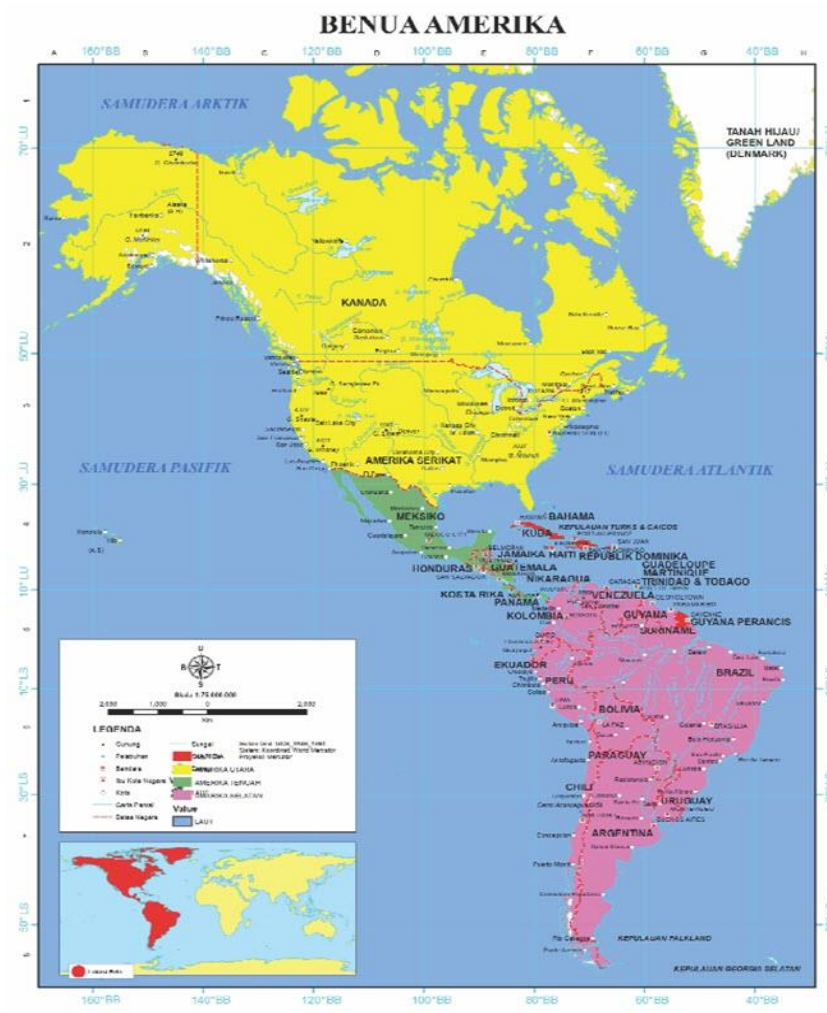
Berdasarkan isian tabel tersebut dapat disimpulkan bahwa benua Amerika secara astronomis terletak diantara  $170^{\circ}$  BT– $35^{\circ}$  BB dan  $83^{\circ}$  LU– $55^{\circ}$  LS. Secara geografis benua Amerika sebelah barat berbatasan dengan Samudra Pasifik; sebelah utara berbatasan dengan Samudra Arktik, Laut Weddel, dan Samudra Atlantik; sebelah timur berbatasan dengan Samudra Atlantik; dan sebelah selatan berbatasan dengan Samudra Atlantik.

Bagaimana kaitan antara letak astronomis dengan iklim di benua Amerika? Silakan Anda ingat kembali pengaruh letak astronomis terhadap iklim suatu wilayah. Benua Amerika memiliki iklim yang beragam dikarenakan oleh luas, panjang letaknya dan letak astronomis setiap kawasan. Iklim di benua Amerika adalah sebagai berikut:

1. Iklim kutub/ dingin, yakni iklim yang berciri musim dingin yang panjang dan musim panas yang sangat pendek. Iklim ini memengaruhi daerah paling utara;
2. Iklim subtropis, yakni iklim yang berciri adanya empat musim. Empat musim tersebut ialah musim dingin, semi, panas, dan gugur. Iklim ini meliputi kawasan sebelah selatan kawasan paling utara;
3. Iklim tropis, yakni iklim yang berciri curah hujan tinggi, kelembapan tinggi, dan suhu yang panas sepanjang tahun. Iklim tropis meliputi sebagian besar kawasan Amerika Tengah dan Amerika Selatan; dan

4. Iklim gurun, yakni iklim yang berciri perubahan suhu yang selalu berubah-ubah dengan cepat serta curah hujan yang rendah. Iklim ini meliputi kawasan-kawasan yang berada di balik pegunungan.

Bagaimana pembagian wilayah Benua Amerika? Secara geografis, Amerika terbagi atas empat kawasan atau region yakni kawasan Amerika Selatan, Amerika Utara, Amerika Tengah dan Kepulauan Karibia yang terletak di sekitar Amerika bagian tengah. Sejumlah ahli geografi berpendapat bahwa Meksiko masuk ke dalam wilayah Amerika Tengah. Peta berikut menggambarkan pembagian wilayah Benua Amerika.



Gambar 2.2 Peta Pembagian Wilayah Benua Amerika

Sumber: <https://www.mikirbae.com/>



Berdasarkan hasil pengamatan Gambar 2.2 di atas, silakan Ananda lengkapi tabel berikut ini!



Tabel 2.4 Negara-negara di Benua Amerika

| No. | Region/kawasan    | Negara-negara yang termasuk pada region/kawasan |
|-----|-------------------|---|
| 1   | Amerika Utara     | .....<br>.....                                  |
| 2   | Amerika selatan   | .....<br>.....                                  |
| 3   | Kepulauan Karibia | .....<br>.....                                  |
| 4   | Amerika tengah    | .....<br>.....                                  |

### C. Tugas



Agar Ananda lebih memahami materi kegiatan belajar 1, silakan Ananda kerjakan latihan berikut ini!

1. Sebutkan letak benua Amerika secara astronomis!
2. Jelaskan letak benua Amerika secara geografis!
3. Berapakah luas benua Amerika?
4. Bagaimana kaitan antara letak astronomis dengan iklim di benua Amerika?
5. Jelaskan lima pembagian wilayah/region dari benua Amerika!
6. Berikan contoh minimal 5 negara dari masing-masing region/wilayah pembagian benua Amerika!




Marilah kita menyusun rangkuman untuk kegiatan pembelajaran ini! Ananda bisa berpartisipasi menyusun rangkuman dengan melengkapi kalimat-kalimat berikut ini!

1. Berdasarkan letak astronomis benua Amerika dilihat dari garis bintang terletak antara ... dan ..., sedangkan dilihat dari garis bujur terletak antara ... dan ... .
2. Berdasarkan letak geografis benua Amerika  
Sebelah utara berbatasan dengan ... .  
Sebelah timur berbatasan dengan ... .  
Sebelah barat berbatasan dengan ... .  
Sebelah selatan berbatasan dengan ... .
3. Luas benua Amerika adalah ... .
4. Kaitan antara letak astronomis dengan iklim maka benua Amerika terdiri atas beberapa iklim, yaitu iklim ..., iklim ..., iklim ..., iklim ..., dan iklim ... . Negara-negara yang berada di benua Asia berdasarkan pembagian region/ wilayah:  
Amerika Tengah: ... .  
Amerika utara... .  
Amerika selatan: ... .  
Kepulauan Karibia : ... .

Bagus! Ananda telah berhasil melengkapi rangkuman!  
Sekarang coba bacalah kembali rangkuman yang telah kita susun!

## E.

## TES FORMATIF



Untuk mengetahui apakah Anda telah menguasai materi pelajaran pada Modul 2 ini, kerjakan tugas yang disediakan. Tes formatif kegiatan belajar 1 ini harus dikerjakan sendiri tanpa melihat kunci jawaban. Jawablah secara jelas tes formatif berikut ini!

Tabel 2.5 Soal Tes Formatif Kegiatan Belajar 1

| No. | Soal   | Jawaban |
|-----|--|---------|
| 1   | Jelaskan letak Benua Amerika secara geografis!                                   |         |
| 2   | Jelaskan letak Benua Secara Astronomis!  |         |
| 3   | Berapa luas Benua Amerika?   |         |
| 4   | Bagaimana kaitan antara letak secara astronomis dengan iklim Benua Amerika?      |         |
| 5   | Sebutkan empat pembagian wilayah Benua Amerika!                                  |         |
| 6   | Berikan contoh masing-masing minimal dua negara pembagian wilayah Benua Amerika! |         |

## Petunjuk Evaluasi Hasil Pengerjaan Tes

1. Setelah Ananda selesai mengerjakan Tes Formatif Kegiatan Belajar 1 ini, silahkan cocokkan jawaban Ananda dengan kunci jawaban yang telah disediakan pada bagian lampiran Modul 2. Kemudian hitung tingkat penguasaan yang dapat Ananda capai dengan menggunakan rumus berikut ini:

$$\text{Nilai} : \frac{\text{Jumlah Jawaban Benar}}{\text{Jumlah Soal Seluruhnya}} \times 100$$

2. Jika Nilai Capaian yang Ananda peroleh kurang dari 75 (d disesuaikan dengan KKM yang ditetapkan), Ananda harus mempelajari kembali materi yang belum dikuasai. Jika masih mengalami kesulitan, catatkan pada buku catatan Ananda bagian mana saja yang masih belum Ananda pahami untuk kemudian Ananda dapat mendiskusikannya bersama teman, menceritakannya kepada orang tua, atau dapat menanyakannya langsung kepada Bapak/Ibu Guru pada saat jadwal kegiatan pembelajaran berlangsung.
3. Jika tingkat penguasaan yang Ananda peroleh lebih dari atau sama dengan 75, Ananda dapat melanjutkan Kegiatan Belajar selanjutnya.





# III

## KEGIATAN BELAJAR 2

### Amerika Serikat Salah Satu Contoh Negara Di Benua Amerika

#### A. Indikator Pembelajaran

Setelah melaksanakan kegiatan pembelajaran 2, Ananda diharapkan dapat:

1. menunjukkan letak Amerika Serikat secara astronomis dan geografis;
2. menjelaskan iklim Amerika Serikat;
3. mendeskripsikan bentuk muka bumi Amerika Serikat;
4. menjelaskan flora dan fauna Amerika Serikat;
5. menjelaskan geologi Amerika Serikat; dan
6. mendeskripsikan kondisi penduduk Amerika Serikat.

#### B. Aktivitas Pembelajaran



Sudah siapkah Ananda melanjutkan kegiatan belajar 2 modul ini? Kegiatan belajar ini mempelajari tentang Amerika Serikat. Siapakah diantara Ananda yang belum pernah mendengar Negara Amerika Serikat? Amerika Serikat merupakan salah satu contoh negara yang berada di Benua Amerika bagian utara. Pada kegiatan belajar 2 modul ini, Ananda akan belajar Amerika Serikat dengan segala potensinya. Untuk belajar negara Amerika Serikat, Ananda dapat membaca buku IPS kelas IX yang dikeluarkan oleh Kemendibud tentang Materi Negara Amerika Serikat dan memperhatikan gambar 2.3. berikut ini:



Gambar 2.3 Peta Amerika Serikat  
Sumber: <https://peta.kota.blogspot.com/>



## 1. Letak dan Batas Amerika Serikat

Untuk mengenal lebih jelas tentang Amerika Serikat, silakan Ananda membaca buku sumber lain dan perhatikan gambar 2.3, kemudian isi tabel berikut ini!



Tabel 2.6 Batas Amerika Serikat

| Batas wilayah | Uraian |
|---------------|--------|
| Barat         | .....  |
| Timur         | .....  |
| Utara         | .....  |
| Selatan       | .....  |

Berdasarkan jawaban Ananda pada tabel 2.6. di atas dapat disimpulkan bahwa secara geografis Amerika Serikat di sebelah utara berbatasan dengan Kanada, sebelah barat berbatasan dengan Samudra Pasifik, sebelah timur berbatasan dengan Samudra Atlantik, sebelah selatan berbatasan dengan Meksiko dan Teluk Meksiko. Amerika Serikat juga memiliki negara bagian yang terpisah dari daratan utamanya yaitu Alaska yang terletak di barat laut Kanada. Adapun letak astronomis Amerika Serikat berada diantara 24°33'LU-70°23'LU dan 172°27'- 66°51' BB.

## 2. Iklim

Wilayah Amerika Serikat yang sangat luas dengan keadaan geografis beragam memiliki beberapa jenis iklim. Silahkan Ananda Analisa dengan cara mengaitkan antara letak astronomi dengan iklim wilayah, sehingga akan memperoleh gambaran keadaan iklim di Amerika Serikat. Dengan membaca buku dari sumber lain, Ananda dapat mengisi tabel berikut ini:



Tabel 2.7 Sebaran Musim Amerika Serikat

| No. | Iklim        | Bulan |
|-----|--------------|-------|
| 1   | Musim semi   | ..... |
| 2   | Musim panas  | ..... |
| 3   | Musim gugur  | ..... |
| 4   | Musim dingin | ..... |

Berdasarkan hasil isian tabel di atas maka Iklim yang ada di negara tersebut terdiri atas iklim kontinental, iklim sedang, iklim mediteran, iklim subtropik, dan iklim dingin/kutub (Alaska).

Secara umum, Amerika Serikat mengalami empat musim, yaitu musim semi (21 Maret – 20 Juni), panas (21 Juni – 22 September), gugur (23 September – 20 Desember), dan dingin (21 Desember – 20 Maret). Suhu udara pada musim dingin dapat mencapai  $-30^{\circ}\text{C}$  dan suhu pada musim panas dapat mencapai  $27^{\circ}\text{C}$  di sebagian besar wilayahnya. Suhu udara pada bagian gurun dapat mencapai  $43^{\circ}\text{C}$ , sedangkan di Alaska memiliki suhu udara lebih rendah dari wilayah lainnya di Amerika Serikat karena letaknya berdekatan dengan kutub Utara. Suhu di wilayah ini bisa mencapai  $-21^{\circ}\text{C}$  sampai  $-30^{\circ}\text{C}$  pada musim dingin.

### 3. Bentuk Muka Bumi

Apabila Anda perhatikan peta 2.3 maka wilayah Amerika Serikat terdiri atas dua rangkaian dua pegunungan besar yaitu pegunungan Rocky dibagian barat dan pegunungan Appalachia di bagian timur. Pegunungan Rocky memiliki beberapa puncak yang umumnya tidak terlalu tinggi. Pegunungan Appalachia di bagian timur membentang hampir sejajar Samudera Atlantik sejauh 2.400 km. Diantara kedua pegunungan tersebut terletak dataran sangat luas yang disebut *Great Plains Lakes*, tempat mengalir sungai Missisipi. Sejumlah sungai mengalir melewati dataran tersebut dengan sungai besarnya adalah sungai Missisipi (3.734 km) dan terpanjang kedua di Amerika Serikat setelah sungai Missouri (3.768 km).

Di wilayah utara Amerika Serikat, terdapat negara Kanada yang berbatasan langsung. Di wilayah tersebut juga, ada beberapa danau besar yang terkenal diantaranya adalah danau Michigan, danau Huron, danau Superior, danau Erie dan danau Ontario. Di wilayah selatan, negara ini berbatasan langsung dengan negara Meksiko yang menjadi bagian dari Amerika Selatan.

### 4. Flora dan fauna

Amerika Serikat merupakan satu negara yang memiliki beragam jenis flora. Bahkan beberapa di antaranya hanya bisa ditemukan di Amerika Serikat saja. Jenis apa saja flora yang bisa tumbuh di Amerika Serikat? Silakan Anda pelajari tentang flora dan fauna yang bisa tumbuh dan berkembang di Amerika Serikat dari berbagai sumber mandiri. Isilah tabel berikut sebagai aktivitas untuk mengetahui materi Amerika Serikat!



Tabel 2.8 Flora Amerika Serikat





| No. | Wilayah         | Flora yang bisa tumbuh |
|-----|-----------------|------------------------|
| 1   | Bagian Utara    | .....                  |
| 2   | Bagian Tengah   | .....                  |
| 3   | Bagian barat    | .....                  |
| 4   | Bagian Tenggara | .....                  |

Berdasarkan isian tabel 2.8 maka dapat disimpulkan bahwa bagian utara atau di daerah pegunungan banyak ditanami pohon pinus. Di bagian tengah Amerika Serikat (*Great Plains*) terdapat padang rumput (*prairie/steppa*) yang sangat luas dari perbatasan dengan Kanada di utara sampai sekitar teluk Meksiko di selatan. Padang rumput tersebut berbatasan dengan

gurun di bagian barat Amerika Serikat. Di bagian tenggara dapat dijumpai hutan yang menggugurkan daunnya setiap tahun (*deciduous forest*). Biasanya terdapat pohon maple, elm, dan ek (*oak*). Pohon-pohon konifer yang tinggi dan besar-besar (*redwood*) banyak tumbuh di daerah pegunungan California.

Bagaimana dengan jenis Fauna di Amerika Serikat? Jenis fauna yang hidup di Amerika Serikat antara lain bison, antelop, dan beruang di kawasan Midwest; domba dan rusa di kawasan pegunungan; puma di pesisir pasifik; armadilo, selot, dan jaguar di kawasan barat daya; opossum, aligator, buaya kardinal di kawasan selatan; dan karibu, beruang kutub, anjing laut, serta paus di kawasan Alaska. Untuk menambah wawasan Ananda, silahkan isi dan lengkapi tabel berikut dengan membaca berbagai sumber belajar!

Tabel 2.9 Fauna Amerika Serikat

| No. | Gambar Fauna   | Nama fauna | Wilayah tumbuh |
|-----|--|------------|----------------|
| 1   |  <p>Sumber: <a href="https://www.ekor9.com/">https://www.ekor9.com/</a></p>        |            |                |
| 2   |  <p>Sumber: <a href="https://ilmugeografi.com/">https://ilmugeografi.com/</a></p> |            |                |
| 3   |  <p>Sumber: <a href="https://ilmugeografi.com/">https://ilmugeografi.com/</a></p> |            |                |
| 4   |  <p>Sumber: <a href="https://ilmugeografi.com/">https://ilmugeografi.com/</a></p> |            |                |

|   |   |  |  |
|---|---|--|--|
| 5   |  |  |  |
| Sumber: <a href="https://ilmugeografi.com/">https://ilmugeografi.com/</a> |   |  |  |

## 5. Geologi

Bagaimana kondisi geologi Amerika Serikat? Amerika Serikat (AS) merupakan negara yang kaya akan sumber daya geologi. Beberapa kekayaan alam tersebut adalah batu bara, minyak bumi, tembaga, posfat, timah, dan besi. Kekayaan batu bara Amerika Serikat bahkan mencapai seperlima atau 27% dari cadangan batu bara dunia. Beberapa bahan tambang yang dihasilkan Amerika Serikat adalah uranium, bauksit, emas, perak, merkuri, nikel, potash, besi, gas alam dan kayu-kayuan. Amerika Serikat juga memiliki dataran yang sangat luas dan cukup subur. Dataran tersebut banyak ditanami tanaman sereal, terutama jagung, dan dijadikan daerah peternakan.

## 6. Kondisi penduduk

Amerika Serikat merupakan negara dengan jumlah penduduk terbesar ketiga di dunia setelah China dan India yaitu mencapai 321,2 juta jiwa (WPDS, 2015). Penduduk aslinya adalah suku Indian yang menurut beberapa ahli sejarah berasal dari Eurasia yang bermigrasi antara 65.000 - 25.000 tahun yang lalu. Migrasi terakhir terjadi sekitar 12.000 tahun yang lalu.

Jumlah penduduk Indian sebelum kedatangan bangsa Eropa diperkirakan berkisar 2 - 8 juta jiwa. Pada tahun 1890, diperkirakan jumlahnya tinggal 250 ribu jiwa. Kedatangan bangsa Eropa membuat suku Indian semakin terpinggirkan secara jumlah dan sosial ekonomi. Selain Indian juga terdapat orang Eskimo di Alaska yang jumlahnya relatif kecil. Sebagian besar penduduk Amerika bekerja di luar sektor pertanian atau yang mengandalkan sumber daya alam. Komposisi penduduk berdasarkan Penduduk Amerika terdiri atas penduduk asli, penduduk pendatang, dan penduduk campuran.

Penduduk aslinya adalah suku Eskimo dan Indian. Sedangkan penduduk pendatangnya berasal dari berbagai benua yang terdiri atas tiga ras utama, yaitu Ras Negroid dari Afrika, Ras Mongolia dari Asia, dan Ras Kaukasoid yang berkulit putih dari Eropa. Dalam perkembangannya penduduk pendatang dan penduduk asli saling berbaur hidup bersama sehingga dapat dijumpai adanya penduduk campuran.

Agama penduduk Amerika Serikat sangat beragam. Pemeluk terbanyak ialah Katolik Roma yang pemeluknya tersebar di seluruh kawasan Amerika Selatan. Di Amerika Utara, banyak pemeluk agama Kristen Protestan. Agama lainnya yang dipeluk oleh penduduk Amerika meliputi Yahudi, Islam, Hindu, Buddha, Kong Hucu, serta kepercayaan animisme yang masih banyak dianut oleh suku Indian.

### C. Tugas



Agar Ananda lebih memahami materi Kegiatan Belajar 2, silakan Ananda mengerjakan latihan berikut ini!

1. Jelaskan letak Amerika Serikat secara astronomis dan geografis!
2. Bagaimana kondisi iklim Amerika Serikat dikaitkan dengan letak astronomis!
3. Jelaskan bentuk muka bumi Amerika Serikat!
4. Deskripsikan flora dan fauna yang bisa tumbuh dan berkembang di Amerika Serikat!
5. Bagaimana kondisi geologi Amerika Serikat?
6. Deskripsikan kondisi penduduk Amerika Serikat dengan melihat komposisi penduduk dilihat dari Agama, dan Ras!



Marilah kita menyusun rangkuman pada kegiatan pembelajaran ini. Ananda bisa berpartisipasi menyusun rangkuman dengan melengkapi kalimat-kalimat di bawah ini:

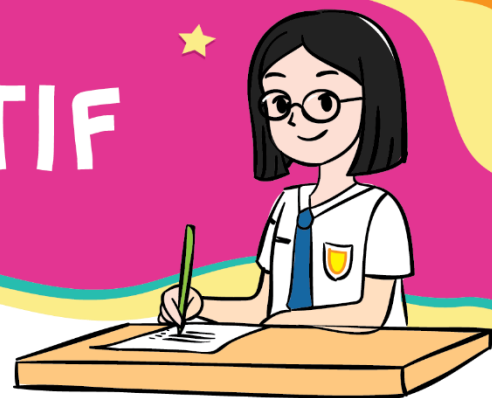
1. Letak Amerika Serikat dilihat dari garis lintang yaitu... dan ..., dilihat dari garis bujur yaitu... dan ...
2. Letak Amerika Serikat dilihat secara geografis berbatasan dengan sebelah utara yaitu..., sebelah timur yaitu..., sebelah selatan yaitu..., dan sebelah barat yaitu ... .
3. Sebaran negara yang mengalami empat Musim Amerika Serikat adalah :
  - a. Musim dingin, negara : ... .
  - b. Musim semi , negara : ... .
  - c. Musim panas , negara : ... .
  - d. Musim gugur , negara : ... .
4. Fauna yang hidup di Amerika Serikat antara lain bison, antelop, dan beruang di kawasan ... ; domba dan rusa di kawasan ... ; puma di ... ; armadilo, selot, dan jaguar di kawasan ... ; opossum, aligator, buaya kardinal di kawasan ... ; dan karibu, beruang kutub, anjing laut, serta paus di kawasan ....
5. Flora yang tumbuh di Amerika Serikat bagian utara ..., bagian tengah ..., bagian tenggara ..., dan bagian barat ... .
6. Contoh bahan tambang yang dihasilkan Amerika Serikat adalah ... .
7. Penduduk asli Amerika Serikat adalah ... .
8. Jumlah penduduk Amerika Serikat ... juta jiwa (WPDS, 2015).
9. Penduduk pendatang Amerika Serikat berasal dari berbagai benua yang terdiri atas tiga ras utama, yaitu Ras Negroid dari ..., Ras Mongolia dari ..., dan Ras Kaukasoid yang berkulit putih dari ... .
10. Agama yang dianut penduduk Amerika Serikat terbanyak adalah agama ... di wilayah ..., dan agama Kristen Protestan di wilayah ... .

Bagus! Ananda telah berhasil melengkapi rangkuman, sekarang coba bacalah sekali lagi rangkuman yang telah dibuat!



## E.

## TES FORMATIF



Untuk mengetahui apakah Ananda telah menguasai materi pelajaran pada Modul 2 ini, kerjakan tugas yang disediakan. Tes formatif kegiatan belajar 2 ini harus dikerjakan sendiri tanpa melihat kunci jawaban. Jawablah pertanyaan berikut secara jelas!

Tabel 2.10 Soal Tes Formatif Kegiatan Belajar 2

| No. | Soal   | Jawaban |
|-----|--|---------|
| 1   | Jelaskan letak Amerika Serikat secara geografis!                               |         |
| 2   | Jelaskan letak Amerika Serikat secara Astronomis!                              |         |
| 3   | Deskripsikan empat musim yang terjadi di Amerika Serikat dan bulan terjadinya! |         |
| 4   | Deskripsikan flora dan fauna yang tumbuh dan berkembang di Amerika Serikat!    |         |
| 5   | Berapa besar penduduk Amerika Serikat menurut WDPS tahun 2015 ?                |         |
| 6   | Deskripsikan penduduk Amerika Serikat berdasarkan agama, dan ras!              |         |

## Petunjuk Evaluasi Hasil Pengerjaan Tes

1. Setelah Ananda selesai mengerjakan Tes Formatif Kegiatan Belajar 2 ini, silahkan cocokkan jawaban Ananda dengan kunci jawaban yang telah disediakan pada bagian lampiran Modul 2. Kemudian hitung tingkat penguasaan yang dapat Ananda capai dengan menggunakan rumus berikut ini:

$$\text{Nilai} : \frac{\text{Jumlah Jawaban Benar}}{\text{Jumlah Soal Seluruhnya}} \times 100$$

2. Jika Nilai Capaian yang Ananda peroleh kurang dari 75 (d disesuaikan dengan KKM yang ditetapkan), Ananda harus mempelajari kembali materi yang belum dikuasai. Jika masih mengalami kesulitan, catatkan pada buku catatan Ananda bagian mana saja yang masih belum Ananda pahami untuk kemudian Ananda dapat mendiskusikannya bersama teman, menceritakannya kepada orang tua, atau dapat menanyakannya langsung kepada Bapak/Ibu Guru pada saat jadwal kegiatan pembelajaran berlangsung.
3. Jika tingkat penguasaan yang Ananda peroleh lebih dari atau sama dengan 75, Ananda dapat melanjutkan Kegiatan Belajar selanjutnya.



## IV

# KEGIATAN BELAJAR 3



## Dinamika Penduduk Benua Amerika

### A. Indikator Pembelajaran

Setelah melaksanakan kegiatan pembelajaran 3, Ananda diharapkan dapat:

1. menjelaskan jumlah penduduk Benua Amerika;
2. mendeskripsikan persebaran penduduk Benua Amerika;
3. menganalisa komposisi Penduduk Benua Amerika (usia dan ras); dan
4. menganalisa pertumbuhan penduduk Benua Amerika.

### B. Aktivitas Pembelajaran



Mari kita lanjutkan belajar dinamika penduduk Benua Amerika! Benua Amerika dibagi menjadi empat wilayah, siapa yang masih ingat? Sudah dijelaskan di kegiatan belajar 1 bahwa Amerika Serikat dibagi menjadi empat pembagian wilayah. Jumlah penduduk benua Amerika dapat dilihat dari masing-masing negara di empat wilayah tersebut. Setiap wilayah di dalamnya terdiri atas beberapa negara sehingga dinamika penduduk masing-masing wilayah tentu akan berbeda tergantung faktor yang mempengaruhinya. Secara umum dinamika penduduk tersebut dipengaruhi oleh beberapa faktor. Ayo Siapa yang masih ingat pelajaran sebelumnya? Dinamika penduduk dipengaruhi oleh angka kelahiran atau natalitas, angka kematian atau mortalitas, dan migrasi.

#### 1. Jumlah Penduduk Benua Amerika

Siapakah diantara Ananda yang mengetahui jumlah penduduk benua Amerika? Penduduk Benua Amerika pada tahun 2005 mencapai angka 888.000.000 jiwa sedangkan pada tahun 2015 mencapai 987.000.000 jiwa. Ini berarti terjadi pertambahan penduduk sebesar 99.000.000 jiwa dalam kurun waktu 10 tahun. Jumlah penduduk tersebut jumlah kedua terbesar setelah Benua Asia yang tersebar di empat wilayah Benua Amerika. Laju pertumbuhan penduduk Benua Amerika tergolong rendah, yakni 0,9% per tahun.

## 2. Sebaran Penduduk Benua Amerika

Untuk mengetahui persebaran penduduk Benua Amerika dapat dilihat pada peta berikut ini:



Gambar 2.4 Peta Persebaran Penduduk Amerika

Sumber: <https://abyadi.com/dinamika-penduduk-amerika/>

Silahkan Ananda Amati peta 2.4 tersebut, kemudian isi tabel berikut ini!

| Tabel 2.11 Sebaran Penduduk Benua Amerika |                 |                       |
|---|-----------------|-----------------------|
| No.                                       | Sebaran wilayah | Kepadatan Penduduk *) |
| 1   |                 | Tinggi/rendah         |
|   |                 |                       |
|   |                 |                       |
| 2   |                 | Tinggi/rendah         |
|   |                 |                       |
|   |                 |                       |

Catatan: \*) pilih tinggi/rendah

Berdasarkan hasil pengamatan dan isian tabel dapat disimpulkan bahwa sebaran penduduk Amerika tidak merata. Konsentrasi penduduk Amerika berada di bagian timur dan barat Amerika Serikat, Amerika Tengah dan Karibia, serta bagian barat dan timur Amerika Selatan. Bagian tengah Benua Amerika umumnya lebih rendah kepadatan penduduknya. Demikian halnya dengan wilayah paling utara dan paling selatan. Kedua wilayah tersebut mendekati kutub utara dan kutub selatan.

Penyebaran Penduduk dan tingkat kualitas penduduk Benua Amerika tidak merata. Negara yang memiliki kualitas penduduk yang tinggi di antaranya adalah Amerika Serikat, Kanada, Argentina, Chile, Meksiko, Brazil, dan sejumlah negara Amerika Latin lain. Negara dengan kualitas penduduk sedang adalah Paraguay, Bolivia dan sejumlah negara lain.

### 3. Komposisi Penduduk Benua Amerika

#### a. Komposisi Berdasarkan Usia

Komposisi penduduk Amerika berdasarkan usia menunjukkan bahwa sebesar 24 % dari penduduknya berusia kurang dari 15 tahun dan sekitar 10 % berusia 65 tahun atau lebih. Ini berarti sebesar 34 % penduduknya termasuk penduduk usia tidak produktif. Selebihnya atau sebesar 66 % merupakan penduduk usia produktif.

#### b. Komposisi Berdasarkan Ras

Penduduk asli Benua Amerika adalah suku Indian dan Eskimo. Penduduk pendatang berasal dari berbagai benua yang terdiri atas tiga ras utama, yaitu Ras Negroid dari Afrika, ras Mongolia dari Asia, dan ras Kaukasoid yang berkulit putih dari Eropa. Dalam perkembangannya penduduk pendatang dan penduduk asli saling berbaur hidup bersama sehingga dapat dijumpai adanya penduduk campuran.

## C. Tugas



Agar Ananda lebih memahami materi kegiatan belajar 3, silahkan Ananda mengerjakan latihan berikut ini!

1. Analisa Jumlah penduduk Benua Amerika dibandingkan dengan penduduk benua lainnya!
2. Analisa Persebaran penduduk Benua Amerika!
3. Deskripsikan Komposisi Penduduk Benua Amerika (usia dan ras)!






Marilah kita menyusun rangkuman pada kegiatan pembelajaran ini. Ananda bisa berpartisipasi menyusun rangkuman dengan melengkapi kalimat-kalimat di bawah ini

1. Jumlah penduduk Benua Amerika pada tahun 2005 mencapai angka ... jiwa sedangkan pada tahun 2015 mencapai ... jiwa.
2. Konsentrasi penduduk Amerika berada di bagian ... dan ... Amerika Serikat, Amerika Tengah dan Karibia, serta bagian barat dan timur Amerika Selatan. Bagian tengah Benua Amerika umumnya lebih ... kepadatan penduduknya. Demikian halnya dengan wilayah paling utara dan paling selatan. Kedua wilayah tersebut mendekati kutub utara dan kutub selatan.
3. Negara yang memiliki kualitas penduduk yang tinggi di antaranya adalah ... , ..., ..., dan ... . Negara dengan kualitas penduduk sedang adalah ..., ... dan sejumlah negara lain.
4. Komposisi penduduk Amerika berdasarkan usia menunjukkan bahwa sebesar ...% dari penduduknya berusia kurang dari 15 tahun dan sekitar ...% berusia 65 tahun atau lebih.
5. Usia tidak produktif sebesar ...% dan ...% penduduk usia produktif.
6. Penduduk asli Benua Amerika adalah suku ... dan ... .
7. Tiga ras utama penduduk Benua Amerika, yaitu Ras Negroid dari ... , ras Mongolia dari ... , dan ras Kaukasoid yang berkulit putih dari ... .
8. Laju pertumbuhan penduduk Asia mencapai ...% per tahun. Dan penduduk Asia yang pertumbuhan tinggi yaitu negara ... .

Bagus! Ananda telah berhasil melengkapi rangkuman, sekarang coba bacalah sekali lagi rangkuman yang telah dibuat!

# E.

# TES FORMATIF



Untuk mengetahui apakah Ananda telah menguasai materi pelajaran pada Modul 2 ini, kerjakan tugas yang disediakan. Tes formatif kegiatan belajar 3 ini harus dikerjakan sendiri tanpa melihat kunci jawaban. Jawablah pertanyaan test formatif pada tabel berikut!

Tabel 2.12 Soal Tes Formatif Kegiatan Belajar 3

| No. | Soal   | Jawaban |
|-----|--|---------|
| 1   | Deskripsikan sebaran kepadatan penduduk Benua Amerika secara jelas!            |         |
| 2   | Jelaskan sebaran kualitas penduduk Benua Amerika!                              |         |
| 3   | Deskripsikan komposisi penduduk benua Amerika berdasarkan Usia!                |         |
| 4   | Deskripsikan komposisi penduduk benua Amerika berdasarkan ras dan daerah asal! |         |

## Petunjuk Evaluasi Hasil Pengerjaan Tes

1. Setelah Ananda selesai mengerjakan Tes Formatif Kegiatan Belajar 3 ini, silahkan cocokkan jawaban Ananda dengan kunci jawaban yang telah disediakan pada bagian lampiran Modul 2. Kemudian hitung tingkat penguasaan yang dapat Ananda capai dengan menggunakan rumus berikut ini:

$$\text{Nilai} : \frac{\text{Jumlah Jawaban Benar}}{\text{Jumlah Soal Seluruhnya}} \times 100$$

2. Jika Nilai Capaian yang Ananda peroleh kurang dari 75 (disesuaikan dengan KKM yang ditetapkan), Ananda harus mempelajari kembali materi yang belum dikuasai. Jika masih mengalami kesulitan, catatkan pada buku catatan Ananda bagian mana saja yang masih belum Ananda pahami untuk kemudian Ananda dapat mendiskusikannya bersama teman, menceritakannya kepada orang tua, atau dapat menanyakannya langsung kepada Bapak/Ibu Guru pada saat jadwal kegiatan pembelajaran berlangsung.
3. Jika tingkat penguasaan yang Ananda peroleh lebih dari atau sama dengan 75, Ananda dapat melanjutkan Kegiatan Belajar selanjutnya.

# TES AKHIR MODUL



## PILIHAN GANDA

Pilihlah jawaban yang paling benar!

1. Letak benua Amerika dilihat dari garis astronomis yaitu ....
  - A.  $107^{\circ}$  BT –  $35^{\circ}$  BB dan  $38^{\circ}$  LU –  $55^{\circ}$  LS
  - B.  $107^{\circ}$  BT –  $35^{\circ}$  BB dan  $83^{\circ}$  LU –  $55^{\circ}$  LS
  - C.  $170^{\circ}$  BT –  $35^{\circ}$  BT dan  $83^{\circ}$  LU –  $55^{\circ}$  LU
  - D.  $170^{\circ}$  BT –  $35^{\circ}$  BB dan  $83^{\circ}$  LU –  $55^{\circ}$  LS

2. Perhatikan negara berikut ini:

- 1) Brazil
- 2) Suriname
- 3) Canada
- 4) Meksiko
- 5) Amerika Serikat
- 6) Haiti

Berdasarkan daftar negara di atas, yang merupakan negara berada wilayah Benua Amerika Utara adalah nomor ....

- A. 1, 2, dan 4
  - B. 2, 3, dan 5
  - C. 3, 4, dan 5
  - D. 3, 5, dan 6
3. Benua Amerika merupakan benua terluas kedua setelah Benua Asia. Luas benua Amerika yaitu ....
  - A. 42.057.100 km<sup>2</sup>
  - B. 42.507.100 km<sup>2</sup>
  - C. 42.705.100 km<sup>2</sup>
  - D. 42.715. 000 km<sup>2</sup>

4. Perhatikan negara berikut ini:

- 1) Brazil
- 2) Jamaika
- 3) Canada
- 4) Amerika Serikat
- 5) Haiti
- 6) Bahama

Berdasarkan daftar negara di atas, yang merupakan negara berada wilayah Kepulauan Karibia adalah nomor ....

- A. 1, 2, dan 4
  - B. 2, 3, dan 5
  - C. 2, 5, dan 6
  - D. 3, 5, dan 6

5. Letak Astronomi suatu wilayah berpengaruh pada iklim wilayah tersebut. Pengaruh letak astronomis terhadap iklim di Benua Amerika yaitu ....
- masyarakatnya bergerak di bidang pertanian
  - terdapat empat musim yang terjadi di beberapa wilayah
  - terdapat empat iklim yaitu iklim tropis, subtropis, gurun, dan kutub
  - masyarakatnya banyak yang memiliki peternakan
6. Flora khas yang dapat tumbuh dan berkembang di Amerika Serikat bagian utara terutama daerah kutub yaitu ....
- cemara
  - palem
  - kaktus
  - mahoni
7. Fauna berikut yang dapat hidup dan berkembang di Benua Amerika adalah ....



A



C



B



D

8. Letak Negara Amerika Serikat dilihat dari garis astronomis yaitu ....
- $24^{\circ}33'LU$  -  $70^{\circ}23'LU$  dan  $172^{\circ}27'$  -  $66^{\circ}51'$  BB
  - $24^{\circ}33'LU$  -  $70^{\circ}23'LU$  dan  $173^{\circ}27'$  -  $66^{\circ}51'$  BB
  - $25^{\circ}33'LU$  -  $70^{\circ}23'LU$  dan  $172^{\circ}27'$  -  $66^{\circ}55'$  BB
  - $25^{\circ}35'LU$  -  $70^{\circ}23'LU$  dan  $172^{\circ}27'$  -  $66^{\circ}51'$  BB
9. Batas Amerika Serikat sebelah utara dan barat adalah ....
- Kanada dan Samudra Pasifik
  - Kuba dan Samudra Pasifik
  - Meksiko dan Samudra Pasifik
  - Kanada dan Samudra Atlantik

10. Penduduk Amerika Serikat terdiri atas penduduk asli, penduduk pendatang, dan penduduk campuran. Penduduk aslinya adalah suku ....
- A. Eskimo dan Indian.
  - B. Gaucho dan Indian
  - C. Eskimo dan Gaucho
  - D. Kazakh dan India
11. Penduduk pendatang Amerika Serikat berasal dari berbagai benua yang terdiri atas tiga ras utama, yaitu Ras Negroid, Ras Mongolia, dan Ras Kaukasoid. Ras Kaukasoid berasal dari benua ....
- A. Asia
  - B. Afrika
  - C. Eropa
  - D. Amerika
12. Sebaran Penduduk Benua Amerika tidak merata. Sebagian pertumbuhan tinggi dan sebagian lagi rendah. Sebaran Penduduk Amerika tergolong rendah dapat dilihat di daerah ....
- A. bagian tengah Benua Amerika, wilayah paling utara dan paling selatan.
  - B. bagian barat dan timur Negara Amerika Serikat, dan Amerika Tengah dan Karibia
  - C. Amerika Tengah dan Karibia, serta bagian barat dan timur Amerika Selatan
  - D. bagian barat dan timur Negara Amerika Serikat, serta bagian barat dan timur Amerika Selatan
13. Komposisi Penduduk Benua Amerika dikelompokkan menjadi usia tidak produktif dan produktif. Persentase komposisi menurut usia tidak produktif dan produktif adalah ....
- A. 33 % dan 67 %
  - B. 34 % dan 66%
  - C. 35 % dan 65 %
  - D. 36 % dan 64 %
14. Kualitas penduduk Benua Amerika bervariasi. Negara yang memiliki kualitas penduduk yang tinggi di antaranya adalah Amerika Serikat, Kanada, Argentina, dan Chile, Meksiko dan Brazil. Sedangkan kualitas penduduk sedang adalah ....
- A. Paraguay dan Bolivia
  - B. Paraguay dan Meksiko
  - C. Bolivia dan Chile
  - D. Bolivia dan Argentina
15. Laju pertumbuhan penduduk Benua Amerika tergolong rendah, yaitu ....
- A. 0,6 %
  - B. 0.7 %
  - C. 0,8 %
  - D. 0.9 %





# LAMPIRAN



## GLOSARIUM

|                |  |
|----------------|--|
| geologi        | : ilmu yang mempelajari bumi, komposisi, struktur, sifat-sifat fisik, sejarah, dan proses pembentukannya |
| iklim          | : keadaan rata-rata cuaca pada suatu daerah dengan kurun waktu tertentu                                  |
| komposisi      | : tata susunan yang menyangkut keseimbangan, kesatuan, dan keselarasan                                   |
| usia produktif | : usia yang mampu menghasilkan barang / jasa dalam produksi yaitu antara usia 15 – 65 tahun              |



## Kunci Jawaban Tugas

### KEGIATAN BELAJAR 1

| Pertanyaan  | Kunci jawaban   | Skor |
|---|---|------|
| Sebutkan letak benua Amerika secara astronomis!                         | Amerika secara astronomis yaitu 170°BT–35°BB dan 83°LU–55°LS.   | 2    |
| Jelaskan letak benua Amerika secara geografis!                          | Secara geografis benua Amerika terletak antara dua samudra yaitu Samudra Pasifik di sebelah barat dan Samudra Atlantik di sebelah timur. Batas Benua Amerika ialah Samudra Arktik di utara, Laut Weddel, Samudra Atlantik, dan Samudra Pasifik di selatan, Samudra Atlantik di timur, serta Samudra Pasifik di barat.   | 2    |
| Berapakah luas benua Amerika?   | 42.057.100 km <sup>2</sup>  | 1    |
| Bagaimana kaitan antara letak astronomis dengan iklim di benua Amerika? | <p>Benua Amerika memiliki iklim yang beragam dikarenakan oleh luas dan panjang letaknya, dan berdasarkan letak astronomis setiap kawasan. Iklim di Benua Amerika tersebut adalah sebagai berikut :</p> <p>Iklim kutub/ dingin, yakni iklim yang berciri musim dingin yang panjang dan musim panas yang sangat pendek. Iklim ini memengaruhi daerah paling utara.</p> <p>Iklim subtropis, yakni iklim yang berciri adanya empat musim. Empat musim tersebut ialah musim dingin, semi, panas, dan gugur. Iklim ini meliputi kawasan sebelah selatan kawasan paling utara.</p> <p>Iklim tropis, yakni iklim yang berciri curah hujan tinggi, kelembapan tinggi, dan suhu yang panas sepanjang tahun. Iklim tropis meliputi sebagian besar kawasan Amerika Tengah dan Amerika Selatan.</p> <p>Iklim gurun, yakni iklim yang berciri perubahan suhu yang selalu berubah-ubah dengan cepat serta curah hujan yang rendah. Iklim ini meliputi kawasan-kawasan yang berada di balik pegunungan.</p> | 3    |

|  |   |    |
|--|---|----|
| Jelaskan empat pembagian wilayah/region dari benua Amerika!                                | 1. Amerika Selatan<br>2. Amerika Utara<br>3. Amerika Tengah<br>4. Kepulauan Karibia   | 2  |
| Berikan contoh minimal 2 negara dari masing-masing region/wilayah pembagian benua Amerika! | Amerika utara : Kanada, Amerika Serikat, dan Meksiko<br><br>Amerika selatan : Argentina, Brasil, dll<br><br>Amerika Tengah : Panama, Karibia, dll<br><br>Kepulauan Karibia : Kuba, Haiti, dll | 4  |
| Jumlah skor  |   | 14 |

## KEGIATAN BELAJAR 2

| Pertanyaan   | Kunci jawaban  | Skor |
|--|--|------|
| Jelaskan letak Amerika Serikat secara astronomis dan geografis!                  | Secara astronomis terletak pada $24^{\circ}33'LU-70^{\circ}23'LU$ dan $172^{\circ}27'-66^{\circ}51'BB$ .<br>Secara geografis : berbatasan dengan Kanada di sebelah utara, Samudra Pasifik di sebelah barat, Samudra Atlantik di sebelah timur serta Meksiko, Teluk Meksiko, dan Kuba di sebelah selatan.   | 2    |
| Bagaimana kondisi iklim Amerika Serikat dikaitkan dengan letak astronomis!       | Iklim yang ada di negara tersebut terdiri atas iklim kontinental, iklim sedang, iklim mediteran, iklim subtropik, dan iklim dingin/kutub (Alaska).   | 2    |
| Jelaskan bentuk muka bumi Amerika Serikat!                                       | Amerika Serikat terdiri atas dua rangkaian dua pegunungan besar yaitu pegunungan Rocky dibagian barat dan pegunungan Appalachia dibagian timur. Pegunungan Rocky memiliki beberapa puncak yang umumnya tidak terlalu tinggi. Pegunungan Appalachia di bagian timur membentang hampir sejajar Samudera Atlantik sejauh 2.400 km. Diantara kedua pegunungan tersebut terletak dataran sangat luas yang disebut <i>Great Plains Lakes</i> , tempat mengalir sungai Missisipi.   | 2    |
| Deskripsikan flora dan fauna yang bisa tumbuh dan berkembang di Amerika Serikat! | Flora : bagian utara atau di daerah pegunungan banyak ditumbuhi pohon pinus. Di bagian tengah Amerika Serikat ( <i>Great plains</i> ) terdapat padang rumput ( <i>prairie/steppa</i> ) yang sangat luas dari perbatasan dengan Kanada di utara sampai sekitar teluk Meksiko di selatan. Padang rumput tersebut berbatasan dengan gurun di bagian barat Amerika Serikat. Di bagian tenggara dapat dijumpai hutan yang menggugurkan daunnya setiap tahun ( <i>deciduous forest</i> ).<br>fauna yang hidup di Amerika Serikat antara lain bison, antelop, dan beruang di kawasan Midwest; domba dan | 2    |

|  |   |    |
|--|---|----|
|  | <p>rusa di kawasan pegunungan; puma di pesisir pasifik; armadilo, selot, dan jaguar di kawasan barat daya; opossum, aligator, buaya kardinal di kawasan selatan; dan karibu, beruang kutub, anjing laut, serta paus di kawasan Alaska.</p>  |    |
| <p>Bagaimana kondisi geologi Amerika Serikat ?</p>   | <p>Amerika Serikat memiliki dataran yang sangat luas dan cukup subur. Dataran tersebut banyak ditanami tanaman sereal, terutama jagung, dan dijadikan daerah peternakan.</p> <p>Amerika Serikat (AS) merupakan negara yang kaya akan sumber daya geologi. Beberapa kekayaan alam tersebut adalah batu bara, minyak bumi, tembaga, posfat, timah, dan besi.</p> <p>Bahan tambang yang dihasilkan Amerika Serikat adalah uranium, bauksit, emas, perak, merkuri, nikel, potash, besi, gas alam dan kayu-kayuan.</p>   | 3  |
| <p>Deskripsikan kondisi penduduk Amerika Serikat dengan melihat komposisi penduduk dilihat dari Agama, dan Ras !</p> | <p>Amerika Serikat merupakan negara dengan jumlah penduduk terbesar ketiga di dunia setelah China dan India yaitu mencapai 321,2 juta jiwa (WPDS, 2015).</p> <p>Penduduk aslinya adalah suku Eskimo dan Indian. Sedangkan penduduk pendatangnya berasal dari berbagai benua yang terdiri atas tiga ras utama, yaitu Ras Negroid dari Afrika, Ras Mongolia dari Asia, dan Ras Kaukasoid yang berkulit putih dari Eropa.</p> <p>Agama penduduk Amerika Serikat sangat beragam. Pemeluk terbanyak ialah Katolik Roma yang pemeluknya tersebar di seluruh kawasan Amerika Selatan. Di Amerika Utara, banyak pemeluk agama Kristen Protestan. Agama lainnya yang dipeluk oleh penduduk Amerika meliputi Yahudi, Islam, Hindu, Buddha, Kong Hucu, serta kepercayaan animisme yang masih banyak dianut oleh suku Indian.</p> | 5  |
| Jumlah skor  |   | 16 |

### KEGIATAN BELAJAR 3

| Pertanyaan   | Kunci jawaban   | Skor |
|--|---|------|
| Analisa Jumlah penduduk Benua Amerika dibandingkan dengan penduduk benua lainya! | Penduduk Benua Amerika pada tahun 2005 mencapai angka 888.000.000 jiwa sedangkan pada tahun 2015 mencapai 987.000.000 jiwa. Ini berarti terjadi pertambahan penduduk sebesar 99.000.000 jiwa dalam kurun waktu 10 tahun. Jumlah penduduk tersebut jumlah kedua terbesar setelah Benua Asia yang tersebar di empat wilayah Benua Amerika. Laju pertumbuhan penduduk Benua Amerika tergolong rendah, yakni 0,9% per tahun.  | 2    |
| Analisa Persebaran penduduk Benua Amerika!                                       | Sebaran penduduk Amerika tidak merata. Konsentrasi penduduk Amerika berada di bagian timur dan barat Amerika Serikat, Amerika Tengah dan Karibia, serta bagian barat dan timur Amerika Selatan. Bagian tengah Benua Amerika umumnya lebih rendah kepadatan penduduknya. Demikian halnya dengan wilayah paling utara dan paling selatan. Kedua wilayah tersebut mendekati kutub utara dan kutub selatan.   | 2    |
| Deskripsikan Komposisi Penduduk Benua Amerika (usia dan ras)!                    | <p>Komposisi Berdasarkan Usia</p> <p>Komposisi penduduk Amerika berdasarkan usia menunjukkan bahwa sebesar 24 % dari penduduknya berusia kurang dari 15 tahun dan sekitar 10 % berusia 65 tahun atau lebih. Ini berarti sebesar 34 % penduduknya termasuk penduduk usia tidak produktif. Selebihnya atau sebesar 66 % merupakan penduduk usia produktif.</p> <p>Komposisi berdasarkan Ras</p> <p>Penduduk asli Benua Amerika adalah suku Indian dan Eskimo. Penduduk pendatang berasal dari berbagai benua yang terdiri atas tiga ras utama, yaitu Ras Negroid dari Afrika, ras Mongolia dari Asia, dan ras Kaukasoid yang berkulit putih dari Eropa. Dalam perkembangannya penduduk pendatang dan penduduk asli saling berbaur hidup bersama sehingga dapat dijumpai adanya penduduk campuran.</p> | 4    |
|  | Jumlah skor   | 8    |



# Kunci Jawaban Tes Formatif

## KEGIATAN BELAJAR 1

| No. | Soal  | Jawaban   | Skor |
|-----|---|---|------|
| 1   | Jelaskan letak Benua Amerika secara geografis!                              | Secara geografis benua Amerika terletak antara dua samudra yaitu Samudra Pasifik di sebelah barat dan Samudra Atlantik di sebelah timur. Batas Benua Amerika ialah Samudra Arktik di utara, Laut Weddel, Samudra Atlantik, dan Samudra Pasifik di selatan, Samudra Atlantik di timur, serta Samudra Pasifik di barat.   | 2    |
| 2   | Jelaskan letak Benua Amerika secara Astronomis!                             | Amerika secara astronomis yaitu 170°BT–35° BB dan 83°LU–55 LS.  | 2    |
| 3   | Berapa luas Benua Amerika?  | 42.057.100 km <sup>2</sup>  | 1    |
| 4   | Bagaimana kaitan antara letak secara astronomis dengan iklim Benua Amerika? | <p>Benua Amerika memiliki iklim yang beragam dikarenakan oleh luas dan panjang letaknya, dan berdasarkan letak astronomis setiap kawasan. Iklim di Benua Amerika tersebut adalah sebagai berikut :</p> <p>Iklim kutub/ dingin, yakni iklim yang berciri musim dingin yang panjang dan musim panas yang sangat pendek. Iklim ini memengaruhi daerah paling utara.</p> <p>Iklim subtropis, yakni iklim yang berciri adanya empat musim. Empat musim tersebut ialah musim dingin, semi, panas, dan gugur. Iklim ini meliputi kawasan sebelah selatan kawasan paling utara.</p> <p>Iklim tropis, yakni iklim yang berciri curah hujan tinggi, kelembapan tinggi, dan suhu yang panas sepanjang tahun. Iklim tropis meliputi sebagian besar kawasan Amerika Tengah dan Amerika Selatan.</p> <p>Iklim gurun, yakni iklim yang berciri perubahan suhu yang selalu berubah-ubah dengan cepat serta curah hujan yang rendah. Iklim ini meliputi kawasan-kawasan yang berada di balik pegunungan.</p> | 4    |

|             |  |   |    |
|-------------|--|---|----|
| 5           | Sebutkan empat pembagian wilayah Benua Amerika!                                  | 1. Amerika Selatan<br>2. Amerika Utara<br>3. Amerika Tengah<br>4. Kepulauan Karibia   | 2  |
| 6           | Berikan contoh masing-masing minimal dua negara pembagian wilayah Benua Amerika! | Amerika utara : Kanada, Amerika Serikat, dan Meksiko<br><br>Amerika selatan : Argentina, Brasil, dll<br><br>Amerika Tengah : Panama, Karibia, dll<br><br>Kepulauan Karibia : Kuba, Haiti, dll | 4  |
| Jumlah skor |  |   | 15 |

## KEGIATAN BELAJAR 2

| No. | Soal   | Jawaban   | Skor |
|-----|--|---|------|
| 1   | Jelaskan letak Benua Amerika secara geografis!                                 | Secara geografis : berbatasan dengan Kanada di sebelah utara, Samudra Pasifik di sebelah barat, Samudra Atlantik di sebelah timur serta Meksiko, Teluk Meksiko, dan Kuba di sebelah selatan.  | 2    |
| 2   | Jelaskan letak Benua Secara Astronomis!  | Secara astronomis terletak pada 24°33'LU-70 °23'LU dan 172°27'-66°51'BB.  | 1    |
| 3   | Deskripsikan empat musim yang terjadi di Amerika Serikat dan bulan terjadinya! | Secara umum, Amerika Serikat mengalami empat musim, yaitu musim semi (21 Maret – 20 Juni), panas (21 Juni – 22 September), gugur (23 September – 20 Desember), dan dingin (21 Desember – 20 Maret).   | 2    |
| 4   | Deskripsikan flora dan fauna yang tumbuh dan berkembang di Amerika Serikat!    | Flora : bagian utara atau di daerah pegunungan banyak ditanami pohon pinus. Di bagian tengah Amerika Serikat ( <i>Great plains</i> ) terdapat padang rumput ( <i>prairie/steppa</i> ) yang sangat luas dari perbatasan dengan Kanada di utara sampai sekitar teluk Meksiko di selatan. Padang rumput tersebut berbatasan dengan gurun di bagian barat Amerika Serikat. Di bagian tenggara dapat dijumpai hutan yang menggugurkan daunnya setiap tahun ( <i>deciduous forest</i> ).<br>fauna yang hidup di Amerika Serikat antara lain bison, antelop, dan beruang di kawasan Midwest; domba dan rusa di kawasan pegunungan; puma di pesisir pasifik; armadilo, selot, dan jaguar di kawasan barat daya; opossum, aligator, buaya kardinal di kawasan selatan; dan karibu, beruang kutub, anjing laut, serta paus di kawasan Alaska. | 4    |
| 5   | Berapa besar penduduk Amerika Serikat menurut WPS tahun 2015 ?                 | Amerika Serikat merupakan negara dengan jumlah penduduk terbesar ketiga di dunia setelah China dan India yaitu mencapai 321,2 juta jiwa (WPS, 2015).  | 1    |



|   |   |    |
|---|---|----|
| <b>6</b><br>Deskripsikan penduduk Amerika Serikat berdasarkan agama, dan ras! | Penduduk aslinya adalah suku Eskimo dan Indian. Sedangkan penduduk pendatangnya berasal dari berbagai benua yang terdiri atas tiga ras utama, yaitu Ras Negroid dari Afrika, Ras Mongolia dari Asia, dan Ras Kaukasoid yang berkulit putih dari Eropa.<br>Agama penduduk Amerika Serikat sangat beragam. Pemeluk terbanyak ialah Katolik Roma yang pemeluknya tersebar di seluruh kawasan Amerika Selatan. Di Amerika Utara, banyak pemeluk agama Kristen Protestan. Agama lainnya yang dipeluk oleh penduduk Amerika meliputi Yahudi, Islam, Hindu, Buddha, Kong Hucu, serta kepercayaan animisme yang masih banyak dianut oleh suku Indian. | 4  |
| Jumlah skor   |   | 14 |

### KEGIATAN BELAJAR 3

| No.         | Soal   | Jawaban  | Skor |
|-------------|--|--|------|
| <b>1</b>    | Deskripsikan sebaran kepadatan penduduk Benua Amerika secara jelas!            | Sebaran penduduk Benua Amerika Tinggi: Amerika berada di bagian timur dan barat Amerika Serikat, Amerika Tengah dan Karibia, serta bagian barat dan timur Amerika Selatan.<br><br>Sebaran penduduk Benua Amerika rendah: Bagian tengah Benua Amerika, Benua Amerika paling utara (mendekati kutub utara) dan paling selatan (kutub selatan). | 4    |
| <b>2</b>    | Jelaskan sebaran kualitas penduduk Benua Amerika!                              | Negara yang memiliki kualitas penduduk yang tinggi: Amerika Serikat, Kanada, Argentina, dan Chile, Meksiko dan Brazil.<br>Kualitas penduduk sedang: Paraguay dan Bolivia.  | 2    |
| <b>3</b>    | Deskripsikan komposisi penduduk benua Amerika berdasarkan usia!                | Usia Produktif ( 15-64 tahun ) = 66%<br>Usia Non Produktif ( 0-14 tahun dan 65 Tahun ke atas ) = 34 %  | 2    |
| <b>4</b>    | Deskripsikan komposisi penduduk benua Amerika berdasarkan ras dan daerah asal! | Ras Penduduk Benua Amerika yaitu tiga ras utama, yaitu Ras Negroid dari Afrika, ras Mongolia dari Asia, dan ras Kaukasoid yang berkulit putih dari Eropa.  | 3    |
| Jumlah Skor |  |  | 11   |



## Kunci Jawaban Tes Akhir Modul

| No | Kunci Jawaban | No | Kunci Jawaban | No | Kunci Jawaban |
|----|---------------|----|---------------|----|---------------|
| 1  | D             | 6  | A             | 11 | C             |
| 2  | C             | 7  | B             | 12 | A             |
| 3  | A             | 8  | A             | 13 | B             |
| 4  | C             | 9  | A             | 14 | A             |
| 5  | C             | 10 | A             | 15 | D             |

### PEDOMAN PENSKORAN

$$\text{Nilai} : \frac{\text{Jumlah Jawaban Benar}}{\text{Jumlah Soal Seluruhnya}} \times 100$$



# DAFTAR PUSTAKA

Lilis Yuliati dkk. 2009. Ilmu Pengetahuan Sosial : Untuk SMP/MTs Kelas IX. Jakarta. Pusat Perbukuan, Departemen Pendidikan Nasional

Population Reference Bureau (2005). *Worl Population Data Sheet*. 2005-world-population-data-sheet\_eng.pdf

Population Reference Bureau (2015). *Worl Population Data Sheet*. 2015-world-population-data-sheet\_eng.pdf

Setiawan dkk, Ilmu Pengetahuan Sosial SMP Kelas IX, Kementerian Pendidikan dan Kebudayaan Republik Indonesia, Jakarta, 2018

Ajim, Nanang. 2018. Letak dan Luas Benua Amerika.  
<https://www.mikirbae.com/2018/11/letak-dan-luas-benua-amerika.html> (diakses 3 Oktober 2021)

Australia.com.<https://www.aussiespecialist.com/id-id/sales-resources/fact-sheets-overview/australias-animals.html> (diakses 3 Oktober 2021)

Dakira.2019. Peta Benua Amerika lengkap gambar HD, negara dan penjelasannya.  
<https://peta-hd.com/peta-benua-amerika/> (diakses 3 Oktober 2021)

Ekor9.com. 15 Hewan liar Khas Samerika Serikat.  
<https://www.ekor9.com/hewan-khas-amerika-serikat/> (diakses 3 Oktober 2021)

Kota, Blogspot.2011. Peta Amerika Serikat.  
<https://peta-kota.blogspot.com/2011/08/peta-amerika-serikat-united-states-map.html>  
(diakses 3 Oktober 2021)

Lestari, Ika.2019. 8 Jenis Fauna di Amerika yang khas dan langka.  
<https://ilmugeografi.com/biogeografi/jenis-fauna-di-amerika-serikat>  
(diakses 3 Oktober 2021)

Pendidikan Umum, Admin. 2020. Dinamika Penduduk Amerika Serikat.  
<https://abyadi.com/dinamika-penduduk-amerika/> (diakses 3 Oktober 2021)

Wikimedia.org.  
[https://upload.wikimedia.org/wikipedia/commons/e/e0/Panthera tigris altaica 001.jpg](https://upload.wikimedia.org/wikipedia/commons/e/e0/Panthera_tigris_altaica_001.jpg)  
(diakses 3 Oktober 2021)

Wikimedia.org.  
[https://upload.wikimedia.org/wikipedia/commons/6/6a/African Forest Elephant.jpg](https://upload.wikimedia.org/wikipedia/commons/6/6a/African_Forest_Elephant.jpg)  
(diakses 3 Oktober 2021)



Diterbitkan oleh:

Kementerian Pendidikan, Kebudayaan, Riset, dan Teknologi

Direktorat Jenderal Pendidikan Anak Usia Dini,

Pendidikan Dasar, dan Pendidikan Menengah

Direktorat Sekolah Menengah Pertama